

姓名	准考证号	监考教师 由监考员填写
班级	学校名称	
填写要求	正确填涂 错误填涂示例	

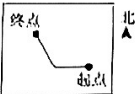
- 答题前,请同学们务必将姓名、所在班级和学校名称用2B铅笔填写在相应的位置,并在监考教师指导下,在规定位置涂写个人准考证号码,填写准考证由监考教师填写。
- 本试卷分卷共六道大题,21道小题,共2页。答题时务必从试卷卷面上方文字,看清每题的要求,按要求作答。
- 所有题目都要使用2B铅笔作答,选择題要将正确选项的选项字母涂满涂实。
- 请在各题目的答题区域内作答,超出红色框线区域的答案无效。
- 字迹工整,填涂规范,保持卷面整洁,试卷要平整,不要折叠。

一、填空题。(共16分)

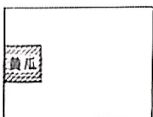
- 计算 $605 \div 5$, 商是()位数。
- 希望小学的4名同学参加50米跑步比赛,他们中获得第一名的同学是()。

名字	小明	小林	小军	小健
成绩/秒	9.1	8.9	9.0	9.5

- 北京胡同是北京城市的文化符号,代表着北京城市的传统文化。周末李叔叔骑行游览了北京的胡同,右图是他的骑行记录。李叔叔从起点出发,先向西骑行一段,再向()方向骑行一段到达终点。




- 某学校有一块长方形的种植园,园内阴影部分种的是黄瓜(如右图)。黄瓜种植的面积是9平方米。这个种植园的面积是()平方米。



二、选择题。(把正确选项对应的“[]”涂满涂黑)(共18分)

- 数学书封面的大小大约是5()。
 (A) 分米 (B) 厘米 (C) 平方分米 (D) 平方厘米
- 下面图中涂色部分能用“0.6”表示的是()。



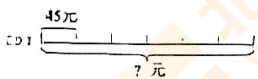
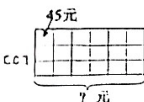
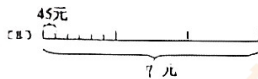
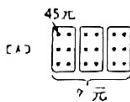
- 中国国家博物馆是中国最具影响力的国家级博物馆之一。它的营业时间(如右图),全天开放的时间是()。

09:00 — 17:00

开馆时间 闭馆时间

- (A) 4时 (B) 8时
(C) 10时 (D) 16时

- 某超市一个月卖出3箱保温壶,每箱6个。每个保温壶售价45元,一共卖了多少元?下面图中不能表示这道题意思的是()。



- 下面选项中能用估算方法解决的问题是()。
 - 奥运会火炬7天传递了840千米,平均每天传递多少千米?
 - 王叔叔今天一共收了128个菠萝,每箱装6个,一共有18个纸箱,装得下吗?
 - 有520把椅子,分5次运完,平均每次运多少把?
 - 某车次火车票每张206元,儿童票半价,每张多少钱?
- 为了得到 14×12 的计算结果,下面4位同学用了不同的方法,其中方法**错误**的是()。

(A) 先算 14×10 , 再算 14×2 , 最后把它们的结果相加。

(B) 先算 10×10 , 再算 4×2 , 最后把它们的结果相加。

(C) 先算 10×12 , 再算 4×12 , 最后把它们的结果相加。

(D)

	10	4
10	100	40
2	20	8

 $100+40+20+8=168$

三、操作题。(共5分)

- 数学课上,小华和小刚在方格纸上画长方形或正方形。



小华


图1是我画出的图形,周长是18厘米,面积是14平方厘米。

我画出的图形周长是16厘米,但是面积却比你的大哟!



小刚

小刚画出的图形可能是什么样子的?请在下面的方格纸上画出来。(下面每个□代表1平方厘米)



请在各题目的答题区域内作答,超出红色框线区域的答案无效

四、直接写出得数。(共4分)

(12) $96 \div 3 =$ $16 \times 6 =$ $24 \times 20 =$ $720 \div 9 =$

五、列竖式计算。(共23分)

(13) $0.8 + 6.1 =$ (14) $10 - 3.2 =$

(15) $37 \times 52 =$ (16) $325 \div 3 =$
 验算:

六、解决问题。(共34分)

(17) 小东有20元钱,下面的玩具各买一个。他的钱够吗?



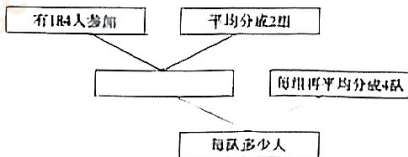
8.5元



9.7元

(18) 赛龙舟是中国南方地区端午节重要的民俗活动。去年端午节某市举办的“赛龙舟”活动有184人参加,平均分成2组,每组再平均分成4队,每队多少人?

①针对“每队多少人?”这个问题,小刚进行了分析。请你把他的分析过程用文字补充完整。



②请你用算式解决“每队多少人?”这个问题。

(19) 在《小数的初步认识》这个单元的复习课上,小玲对0.1这个小数有了新的认识。



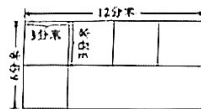
我知道了0.1这个小数特别重要,我们在说小数的意义、小数比较大小的道理、小数加减法计算的道理时都离不开它。

0.5米表示的意思是5个0.1米,0.1特别重要。



请你从小数比较大小和小数加减法计算这两个内容中选择一个,表达出0.1特别重要。

(20) 贴“福”字是中国传统习俗,寄托了人们对幸福生活的向往。书法课上,李老师带来了一排长12分米、宽6分米的长方形红纸,想剪成边长为3分米的正方形纸来写“福”字,一共可以剪出多少张?



左图是我解决这个问题的想法,一共可以剪出8张。



请你用算式表达出小丽每一步的想法。

(21) 新能源汽车对于改善空气质量,减少环境污染和保护生态环境具有重要意义。我国已成为全球最大的新能源汽车市场。下面是某市A、B两个品牌的新能源汽车销售情况。

单位:辆

年份	2019	2020	2021	2022	2023
A品牌	2064	2198	3225	4443	5982
B品牌	2054	2096	2397	2746	3165

我觉得A品牌新能源汽车比B品牌新能源汽车卖得好。



根据表中的信息,你觉得小明说的有道理吗?请你从两个角度说明理由。