

## 2024年丰台四年级（下）数学参考答案

### 一、填空

(1) 0.33; 120

(2)  $\bigcirc - \triangle$

(3) 502.205; 2

(4) 7.9326; 7.9

(5) 34

(6) 300

(7) 60

(8) 44.98

(9) 55

(10) 3.14

(11) 140

(12) 18

### 二、选择

(13) B

(14) C

(15) B

(16) D

(17) C

(18) C

(19) A

(20) B

三计算

(21) 18.08

(22) 31.56

四计算

(23) 245

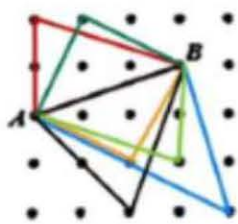
(24) 34

(25) 3900

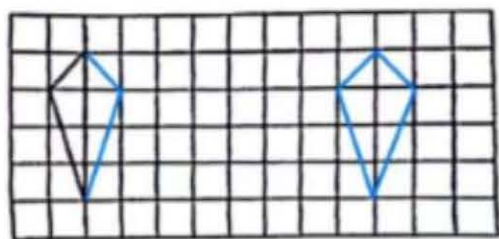
(26) 2

五按要求画图

(27) 六种画法画其中一个即可




(28)



六完成统计图并回答问题

(29) ①

2019~2023年丰台区小学入学与毕业人数统计图



②13590

③2023

④11146；14209；平均数必然在最小值和最大值之间

### 七解决问题

(30) 1吨=1000千克； $0.42 \times 1000 = 420$  (千克)

答：一吨花生可以榨油 420 千克

(31)  $8.25 - 0.71 = 7.54$  (元)

答：92号汽油每升 7.54 元

(32)  $30 \times 5 + 20 \times 1 = 170$  (元)

答：买 8 张的五套，5 张的 1 套最划算

(33)  $(11 \times 4 - 37) \div (4 - 3) = 7$  (棵)

答：其中有 7 棵树安装了 3 个鸟窝