





1. 答题前，请同学校、班级、姓名、学号。2. 本卷共3页，答题时间为60分钟。  
3. 老师不读题、不讲题。4. 书写字迹要清楚，卷面要整洁。

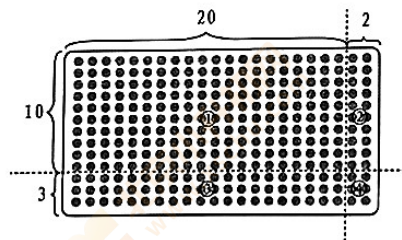
装订线



装订线

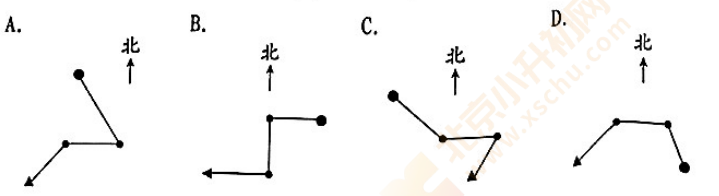
一、下面每题都有四个选项，其中只有一个是正确的，请将正确选项的字母填在括号里。（共16分）

1. 人教版数学书封面的面积大约是5( )。  
A. 分米 B. 平方厘米 C. 平方分米 D. 平方米
2. 清晨，小明迎着太阳去上学，他面对是( )面。  
A. 北 B. 南 C. 西 D. 东
3. 下面各图中，阴影部分不能用0.7表示的是( )。  
A.  B.  C.  D. 
4.  $\square 56 \div 4$ 的商是三位数， $\square$ 中最小填( )。  
A. 3 B. 4 C. 5 D. 6
5. 下面( )是闰年。  
A. 1921 B. 2019 C. 2020 D. 2022
6. 小明用点子图表示了计算 $22 \times 13$ 时的计算过程，将图分成四部分。下面表达错误的是( )。

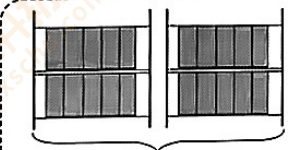


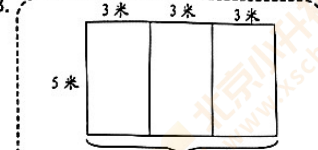
- A. 第①部分用 $20 \times 10$ 表示
- B. 第②部分用 $10 \times 2$ 表示
- C. 第③部分用 $22 \times 3$ 表示
- D. 第④部分用 $3 \times 2$ 表示

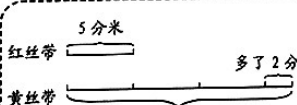
7. 王奶奶从家出发到公园散步(▲代表王奶奶家，●代表公园)。她先向东北方向走了一段路，然后向东走了一段路，最后向西北方向走了一段路到达公园，王奶奶行走的路线是( )。

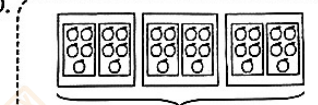


8. 下面选项能用 $5 \times 2 \times 3$ 算式解答的是( )。

A.   
一共多少本书?

B.   
一共多少平方米?



C.   
一共多少分米?

D.   
一共多少个○?

二、填空。（共12分）

1. 6平方米=( )平方分米      2日=( )小时
2. 按规律接着往下写。  
(1) 0.9, 1.1, 1.3, 1.5, ( ), 1.9.  
(2) 9.8, 9.3, 8.8, 8.3, 7.8, ( )。
3. 下表是A、B、C三家商店同款篮球和足球的价格情况。(单位:元)

商店	篮球	足球
A	69.8	45.9
B	71.6	46.8
C	69.5	46.3

- (1) ( )商店的篮球最便宜。
- (2) ( )商店的足球最贵。
4. 妈妈买了一块正方形桌布，用拊(zhā)测得桌布的边长是5拊。这块桌布的面积是( )平方厘米，合( )平方分米。  

5. 李阿姨一共烤了182块饼干，像这样给饼干装盒子。她准备了18个盒子，( )装下。(在括号里填上“能”或“不能”)



1. 答题前，请同学们写清学校、班级、姓名、学号。 2. 本卷共 3 页，答题时间为 60 分钟。  
3. 老师不读题、不讲题。 4. 书写字迹要清楚，卷面要整洁。

装订线

☆

☆

☆

☆

☆

☆

☆

☆

装订线

2. 农历五月初五是我国传统节日——端午节。赛龙舟、吃粽子、配香囊(náng)、挂艾草等都是端午节的重要习俗。


(1) 2023 年“江北水城龙舟赛”，共有 29 支队伍参赛，每队有 16 人，共有多少人参加比赛？

(2) 学校组织“浓情端午 粽享欢乐”的实践活动，三(2)班同学一共分成 7 组，每组 6 人，他们共包了 210 个粽子。平均每人包了多少个粽子？

(3) 小丽学习缝制香囊，一个香囊需要一块边长是 2 分米的正方形布料。用下面这块布料，最多可以缝制出多少个香囊？  
(不可以拼补布料)



香囊



9 分米

4 分米

布料

3. 周末，小明去动物园游玩。以下是动物园开放时间。

动物园开放时间

旺季：4 月 1 日—10 月 31 日 7:30 ~ 18:00

淡季：11 月 1 日—3 月 31 日 7:30 ~ 17:00

(1) 动物园旺季全天开放时长是 ( ) 小时 ( ) 分。

(2) 动物园淡季(以 2022 至 2023 年为例)共开放多少天？

4. 牛奶被营养学家称之为“接近完美的食品”，适合所有年龄( )用。妈妈为了增加丽丽的早餐营养，打算为她订购一年的牛奶。



如果按季度订(一年有 4 个季度，每个季度 3 个月)，每个季度 108 元。

如果按月订，每月 45 元。



(1) 如果订购一年的牛奶，怎么订比较便宜？

写出计算过程：

(2) 请你算一算，两种订购方式，一年相差多少元？

5. 每年的 3 月 21 日是“世界睡眠日”，今年世界睡眠日的主题是“良好睡眠，健康之源”。为了了解同学们的睡眠情况，学校抽调了三六年级各 40 名同学进行调查。

三年级和六年级学生睡眠时间统计表(单位：人)

睡眠时间	9 小时以下	9 至 11 小时	11 小时以上
三年级	2	33	5
六年级	12	27	1

(1) 三年级同学睡眠时间在 ( ) 的人数最多，六年级同学睡眠时间在 ( ) 的人数最少。

(2) 小芳是一名三年级学生，每天早上 7:30 起床，要想保证 10 小时睡眠时长，小芳最晚 ( : ) 上床睡觉。(用 24 小时制表示)

阅读小知识：



充足睡眠、均衡饮食和适当运动，是国际公认三项健康评价标准。小学生每天应该保持 10 小时左右的睡眠。睡眠严重不足会导致儿童发育相对迟缓，免疫力、注意力、记忆力、运动技能等多系统功能受损。

(3) 阅读小知识后，你有什么想法？请你写一写。