

学校 _____ 班级 _____ 姓名 _____ 成绩 _____

一、直接写出得数。

$300 \times 2 =$ $14 \times 2 =$ $20 \times 5 \times 2 =$
 $480 \div 8 =$ $0 \times 30 =$ $5 \times (60 - 10) =$
 $63 \div 3 =$ $25 \times 4 =$ $60 \times 5 + 5 =$

二、填空。

(1) 4 m = () dm

(2) 右面的交通标志表示

每小时限速 60 ()。



(3) 电影《我和我的祖国》13:00 开始, 下午 3:38 结束, 放映了 () 小时 () 分。

(4) 4 个小朋友去北京欢乐谷游玩, 每张门票 195 元, 大约要带 () 元买门票一定够了。

(5) 用 9、3、7 三个数字设置三位数密码 (数字不能重复), 一共可以设置 () 个不同的密码。

(6) 有 30 只兔子, 每 4 只装一个笼子里, 至少需要 () 个笼子。

(7) $\square \div 8 = 12 \dots \star$, \square 里最大是 ()。

(8) 用完全一样的小棒拼三角形。照下面的规律拼下去, 图 5 需要 () 根小棒。




图 1 图 2 图 3

(9) $\square + \star = 15$

$\square = \star + \star + \star + \star$

$\square = ()$

$\star = ()$

(10) 4 个边长是 10 厘米的正方形, 首尾相接拼成一个长方形或一个正方形, 拼成的长方形周长比正方形周长长 () 厘米。

三、在 \bigcirc 里填上 >、< 或 =。

$102 \times 3 \bigcirc 300$ $418 \div 7 \bigcirc 60$
 $240 \div 6 \bigcirc 250 \div 6$ $125 \times 8 \bigcirc 1000$
 $400 \bigcirc 97 \times 4$ $200 \div 5 \bigcirc 200 \div 4$

四、把正确答案前的字母填在 () 里。


(1) 某日北京下了一场中雨, 雨量是 20 ()。

24 小时内的降水量与雨量等级

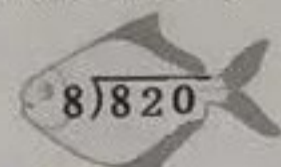
等级	小雨	中雨	大雨	暴雨
雨量	雨量 < 10 mm	10 mm ≤ 雨量 < 25 mm	25 mm ≤ 雨量 < 50 mm	雨量 ≥ 50 mm

A. 分米 B. 厘米 C. 毫米


(2) 商最接近 150 的算式是 ()。



A

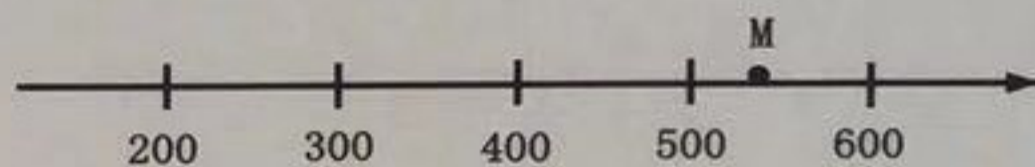


B



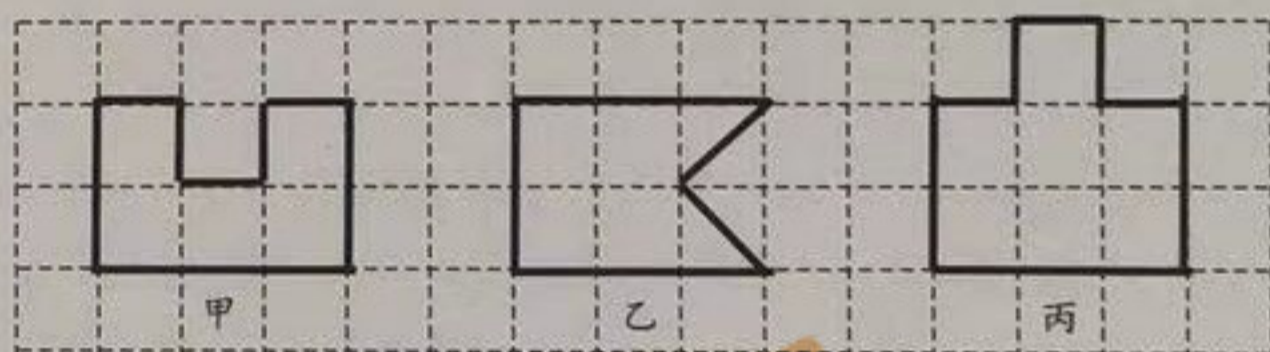
C

(3) 看下面数线, 点 M 表示的数是 () 的积。



A. 41×9 B. 59×9 C. 79×8

(4) 下面三个图形中, () 的周长一样长。

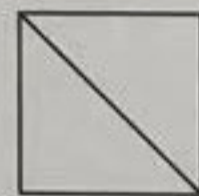


A. 甲和乙 B. 甲和丙 C. 乙和丙

(5) 王大爷的菜园收获了 242 个水果萝卜, 如果每箱装 6 个, 准备 38 个纸箱够吗? 我的判断是 ()。

A. 够 B. 可能够 C. 不够

(6) 右图中共有 () 个角。



A. 8 B. 6 C. 4

五、用竖式计算下面各题。

(1) $92 \times 6 =$ (2) $476 \div 3 =$

六、用脱式计算下面各题。


(1) $108 \times 5 - 120$ (2) $172 \div 4 \times 3$

(3) $464 \div (43 - 35)$

学校 _____ 班级 _____ 姓名 _____

七、观察与操作。


(1) 一只熊猫的质量 = () 只小狗的质量




(2) 下面铅笔长 () 毫米



(3) 在下面的方格纸上画出一个钝角。




(4) 选择下面的小棒(每根不能折断), 摆出长方形和正方形。



① 选择 () 根 () 厘米的小棒就能摆出一个正方形。

② 选择 () 根 () 厘米和 () 根 () 厘米的小棒就能摆出一个长方形, 并把这个长方形画在下面的方格纸上。(下面方格纸中每个小正方形的边长表示 1 厘米)



③ 选择 _____

_____ 就能摆出一个边长是 4 厘米的正方形。

八、解决问题。

(1) 丁丁家和丽丽家一起去果园采摘。丁丁家摘了 68 个苹果, 丽丽家摘了 56 个, 丁丁家给丽丽家多少个, 两家的苹果数就同样多了?

(2) 妈妈带小明逛超市, 微信账单如下:

水彩笔	2018-11-15 9:00	支出 40 元
微信红包	2018-11-15 9:30	转入 200 元
现在零钱:		260 元

进超市前, 妈妈微信零钱里有多少元?



(3) 校舞蹈队买服装, 正赶上商场促销, 现在买 9 件能省多少钱?



商品促销
 原价: 340 元/件
 现价: 295 元/件

(4) 下图是被誉为“新世界七大奇迹之首”的北京大兴国际机场, 航站楼综合体建筑面积比鸟巢国家体育场建筑面积的 5 倍还多 10 万平方米。鸟巢国家体育场建筑面积约是 26 万平方米。算一算, 北京大兴国际机场航站楼综合体建筑面积大约是多少万平方米?

