

2018~2019 学年度第二学期二年级数学综合练习

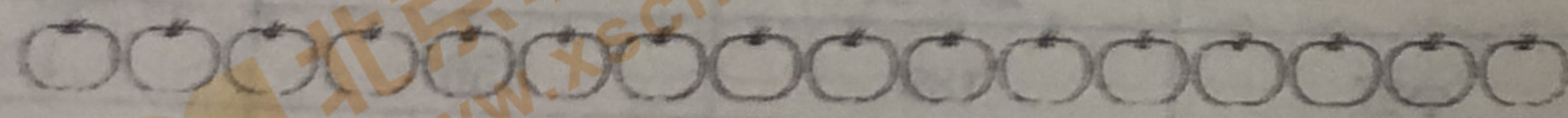
(时间:60 分钟 满分:100 分)

校区: _____ 班级: _____ 姓名: _____ 成绩: _____

一、口算。(每小题 1 分,共 10 分)

$72 \div 8 =$ $5 \times 7 =$ $81 \div 9 =$ $4000 + 2000 =$ $32 \div 4 \times 2 =$
 $6 \times 5 =$ $40 \div 8 =$ $7 \times 4 =$ $530 - 200 =$ $16 - 8 \div 4 =$

二、填空题。(每空 2 分,共 28 分)

- (1) 由 2 个千、5 个十和 6 个一组成的数是 ()。
- (2) 有 16 个苹果,每盘放 5 个,可以放 () 盘,还剩 () 个。

- (3) 4500 里有 () 个百,28 个十是 ()。
- (4) 5000 克 = () 千克 ; 1 千克 - 300 克 = () 克
- (5) 在算式 $\square \div 8 = 2 \cdots \square$ 中,余数最大是 (),这时被除数是 ()。
- (6) 陈东家到学校的距离是 602 米,大约是 () 米;
他家距离超市 998 米,大约是 () 米。
- (7) 有 38 块糖,至少拿走 () 块,剩下的才能平均分给 6 个小朋友。
- (8) 一根绳子长 39 米,做一根长跳绳要用 7 米。这根绳子可以做 () 根长跳绳。
- (9) 超市苹果和荔枝的价格如下表。妈妈买了 1 千克苹果和 500 克荔枝,共花了 () 元钱。



水果	价格
苹果	2 元/500 克
荔枝	3 元/500 克

三、选择题。(将正确答案的字母填在括号里)(每小题 3 分,共 24 分)

- (1) 一个鸡蛋大约重 ()。
 A. 5 克 B. 50 克 C. 500 克

- (2) 下面说法错误的是 ()。
 A. 一枚 2 分硬币约重 1 克。
 B. 1 千克铁和 1 千克棉花一样重。
 C. 爸爸的体重大约是 75 克。

- (3) 下面运动中属于旋转运动的是 ()。



- (4) 一共有 17 根小棒,平均分成 3 份,每份 5 根,还剩 2 根。下面竖式中箭头所指的数表示的含义正确的是 ()。

$$\begin{array}{r}
 5 \\
 3 \overline{) 17} \\
 \underline{15} \\
 2
 \end{array}$$

- A. 要分的 15 根小棒 B. 分走的 15 根小棒 C. 还剩的 15 根小棒
- (5) 35 名同学去划船,每条船限乘 6 人,至少要租 () 条船。
 A. 5 B. 6 C. 7
- (6) 只读一个零的数是 ()。
 A. 5600 B. 6050 C. 6500
- (7) 一本童话书 85 页,已经看了 53 页,剩下的要 4 天看完。平均每天看几页?下面列式正确的是 ()。
 A. $(85 - 53) \times 4$ B. $85 - 53 \div 4$ C. $(85 - 53) \div 4$
- (8) $\triangle \triangle \blacksquare \bigcirc \triangle \triangle \blacksquare \bigcirc \triangle \triangle \blacksquare \bigcirc \triangle \triangle \blacksquare \bigcirc \cdots$ 按上面的顺序排下去,第 28 个图形是 ()。
 A. \triangle B. \bigcirc C. \blacksquare

四、竖式计算。(每小题2分,共6分)

(1) $54 \div 9 =$

(2) $19 \div 2 =$

(3) $35 \div 6 =$

五、脱式计算。(每小题3分,共6分)

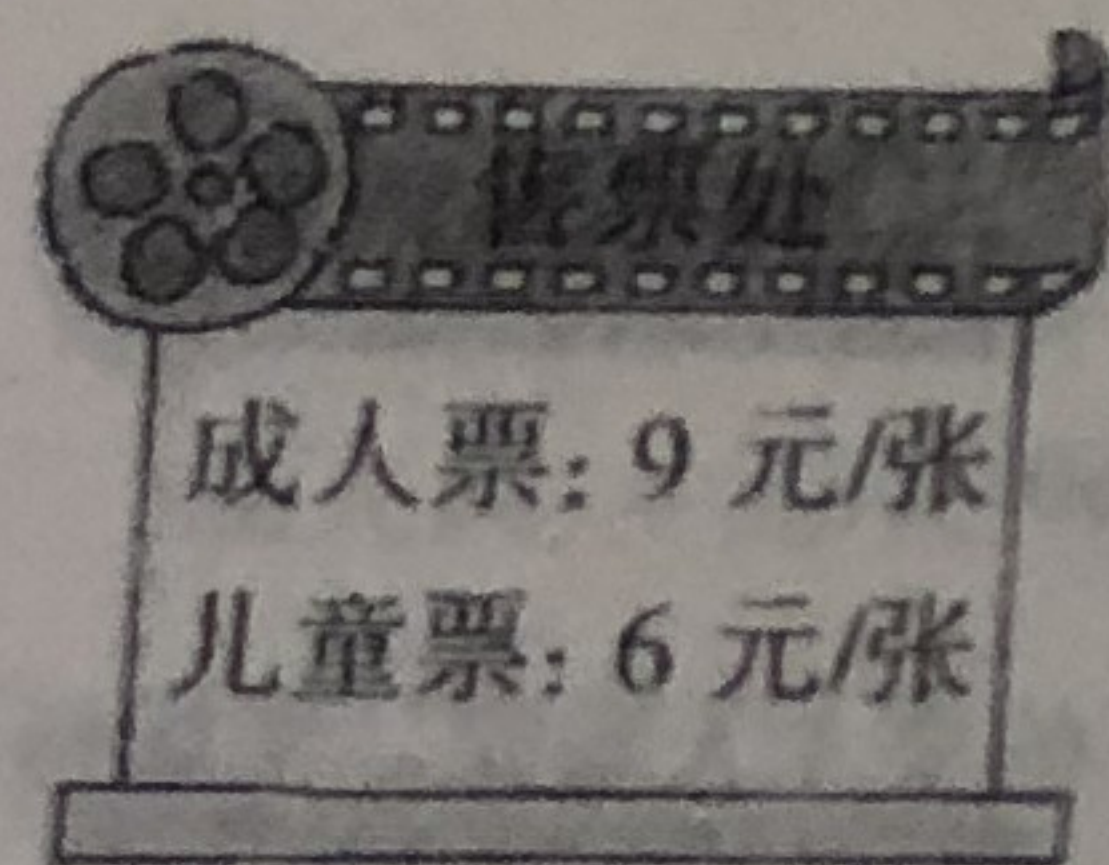
(1) $56 \div (63 \div 9)$

(2) $40 - 5 \times 5$

六、解决问题。(1-3题每题3分,4题5分,5、6题各6分,共26分)

(1) 一个星期有7天,8月有31天,合几个星期零几天?

(2) 小明(儿童)和爷爷、奶奶、爸爸、妈妈一起去公园玩。他们花50元买票够吗?



(3) 二(1)班有男生17人,女生19人。每4个人一个学习小组,一共可以分成多少个学习小组?

(4) 超市为了促销,用4个苹果、3个橘子和2个梨装成一个水果礼盒,下面这些水果最多可以装成多少个这样的礼盒?

种类			
个数	22	17	9

(5) 下表是三名同学1分钟跳绳成绩。(每人跳三次,取最好的作为最后的成绩)

	第1次	第2次	第3次
小红	189	156	178
小雪	188	178	190
小芳	168	175	181

① 请你在表格里圈出他们的最好成绩。

② 根据成绩排出他们的名次。

第一名: () 第二名: () 第三名: ()

(6) 下面是二(1)班同学最喜欢的季节调查情况。(每人只能选一个季节)。

季节	春	夏	秋	冬
投票	√√√√√ √√	○○○○○	正正正	正
人数				

① 把统计结果填在上表中。

② 通过调查,你发现二(1)班喜欢()季的同学最多,喜欢()季的同学最少。