

# 七年级地理上学期期中测试卷


(中图版)

## 基础卷

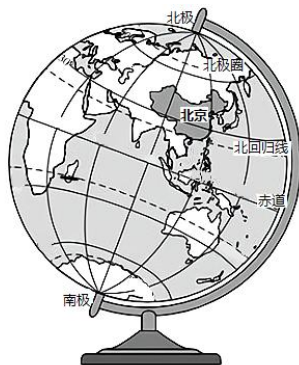
【考试范围：七年级上册第一章至第二章】

一、单项选择题：本题共 25 小题，每小题 2 分，共 50 分。在每小题给出的四个选项中，只有一项是符合题目要求的。

1. 人类对地球的了解经历了漫长的过程，现在能准确测出地球是个球体的观测工具是 ( )

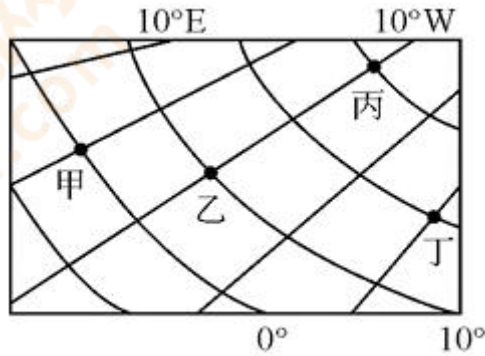


2. 观察地球仪 (下图)，下列说法正确的是 ( )



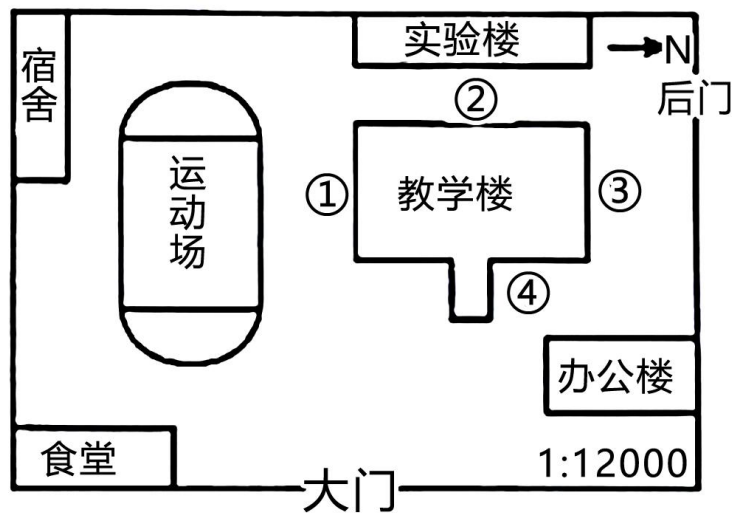
- A. 纬线是与赤道垂直的圆圈  
B. 地轴倾斜于桌面  
C. 经度的范围是  $0^{\circ}\sim 90^{\circ}$   
D. 沿任何经线北行，均能回到原出发点
3. 以下四点所在的纬线，最长的是 ( )
- A.  $40^{\circ}\text{N}$                       B.  $70^{\circ}\text{S}$                       C.  $90^{\circ}\text{N}$                       D.  $0^{\circ}$
4. 某地的经纬度位置为 ( $10^{\circ}\text{N}$ 、 $10^{\circ}\text{W}$ )，它所在的半球位置是 ( )

- A. 南半球、西半球
  - B. 北半球、西半球
  - C. 南半球、东半球
  - D. 北半球、东半球
5. 如图示意局部经纬网，图中两条经纬线之间的间距相等。甲地位于丁地的（ ）




- A. 东北
- B. 西南
- C. 西北
- D. 东南

下图为“某中学的地理兴趣小组绘制的学校平面图”。读图，完成下面 6-7 题。



6. 如果在教学楼西面挂窗帘，应挂在图中的正确位置是（ ）
- A. ①
  - B. ②
  - C. ③
  - D. ④
7. 下面是四位同学读图获取的信息有误的是（ ）
- A. 甲：学校大门朝东开
  - B. 食堂在教学楼的东南方向
  - C. 图中的文字是注记
  - D. 该地图可采用上北下南左西右东判断方向
8. 小李在读中国地形图时发现了以下图例和注记，其中的图例和注记搭配不正确的是（ ）

- A.  - - 公路
- B.  - - 河流、湖泊
- C.  - - 山峰
- D.  - - 沙漠

9. 在一幅地图上，量得甲、乙两地之间的距离是 3 厘米，甲乙两地的实际距离是 150 千米，这幅地图的比例尺是（ ）

- A. 1 : 50                      B. 1 : 50000                      C. 1 : 500000                      D. 1 : 5000000

2021 国庆节假期期间，合肥的小明打算为家人设计市内旅游活动。据此完成下面 10-11 题。

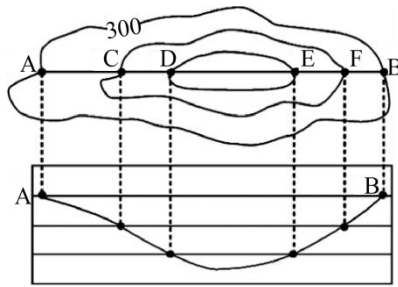
10. 在挑选旅游目的地时，小明应该查阅的地图是合肥市（ ）

- A. 行政区划图                      B. 地形分布图                      C. 交通图                      D. 旅游景点图

11. 小明决定带家人环巢湖自驾游，适用的地图是（ ）

- A. 电子导航图                      B. 遥感影像图                      C. 矿产分布图                      D. 人口分布图

12. 图是某地的等高线地形图和地形剖面图，据图判断图示区域的地形类型是（ ）

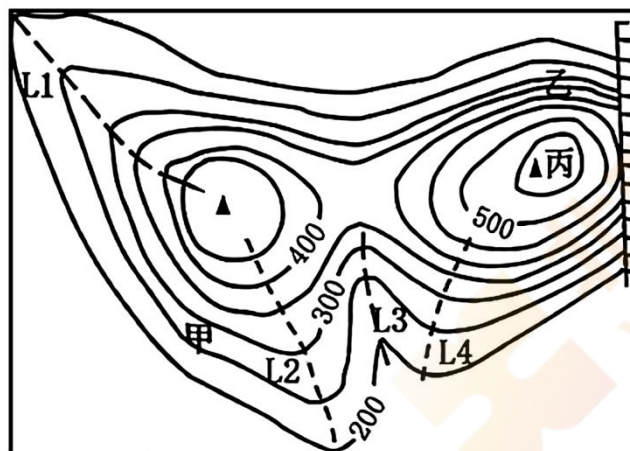


- A. 山地                      B. 高原                      C. 平原                      D. 盆地

13. 下列关于分层设色地形图的说法，不正确的是：（ ）

- A. 绿色代表平原                      B. 褐色比黄色海拔高                      C. 蓝色代表海洋                      D. 白色表示雪山

下图为“某地等高线地形图（单位：米）”。读图，完成下面 14-16 题。



14. 与甲坡相比，乙坡为（ ）

- A. 东南坡、缓坡      B. 西南坡、缓坡      C. 南坡、陡坡      D. 北坡、陡坡

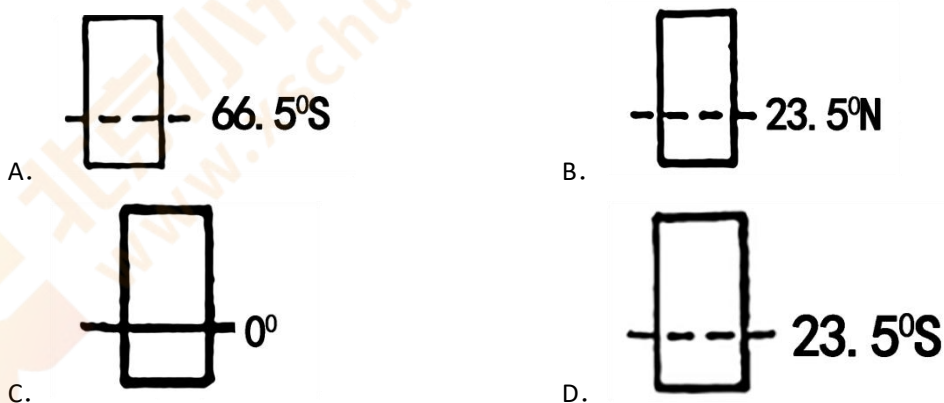
15. 丙山峰的海拔可能为 ( )

- A. 525 米      B. 583 米      C. 612 米      D. 659 米

16. 最适合漂流的路线是 ( )

- A. L1      B. L2      C. L3      D. L4

17. 下列图形能体现我国纬度位置的是 ( )



18. “乡愁是一湾浅浅的海峡，我在这头，大陆在那头”。诗中的海峡指的是 ( )

- A. 台湾海峡      B. 琼州海峡      C. 渤海海峡      D. 巴士海峡

19. 我国最大的岛屿是 ( )

- A. 海南岛      B. 台湾岛      C. 崇明岛      D. 舟山群岛

20. 当前，网购已成为人们购物的主要方式之一。今年“双十一”小明在淘宝网上买了一套喜欢的书籍，收件地址为湖北省宜城市襄沙路 102 号，地址中的“宜城市”属于我国三级行政区划中的 ( )

- A. 省级      B. 国家级      C. 县级      D. 乡（镇）级

下图为我国部分省级行政区域轮廓示意图。读图，完成下面 21-22 题。



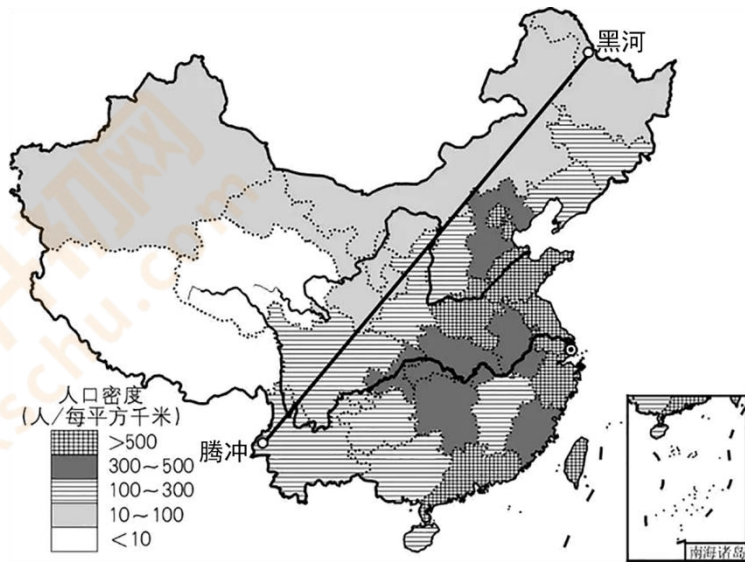
21. 丁图示意的省级行政区域是 ( )

- A. 山西省      B. 河南省      C. 内蒙古自治区      D. 陕西省

22. 四幅图中主要位于我国纬度最高的省份是 ( )

- A. 甲      B. 乙      C. 丙      D. 丁

读“我国人口分布图”，完成下面 23-25 题。



23. 下列说法正确的是 ( )
- A. 我国人口分布不均匀，东多西少
  - B. 福建是我国人口密度最大的省区
  - C. 平原、盆地人口少，高原、山地人口多
  - D. 漠河—腾冲一线是我国重要的人口分界线

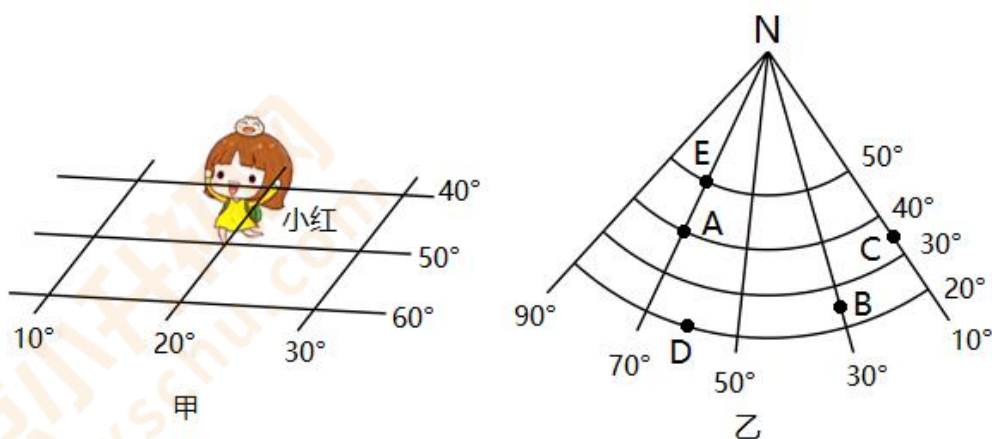
24. 下图能体现甲省民族风俗的是 ( )



25. 乙省主要的少数民族是 ( )
- A. 苗族
  - B. 壮族
  - C. 彝族
  - D. 高山族

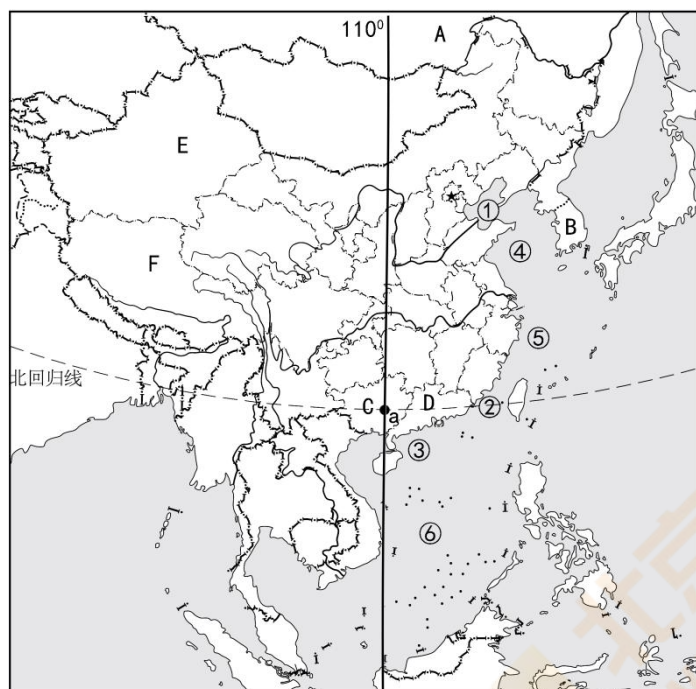
二、综合题：本题共 3 小题，共 50 分。

26. 读下面经纬网图，完成下列问题。(16分)



- (1)图甲中小红行走在大地球经纬网上，其脚踏地点的经纬度是\_\_\_\_\_。
- (2)图乙中所示的纬度是\_\_\_\_\_ (填“南纬”或“北纬”)，经度是\_\_\_\_\_ (填“东经”或“西经”)。
- (3)A、B、C、D四点中，位于东半球的是\_\_\_\_\_。写出东西半球分界线\_\_\_\_\_。
- (4)A点在E点的\_\_\_\_\_方向，B点在A点的\_\_\_\_\_方向。
- (5)A、D、E三点所在的纬线中，长度最长的是\_\_\_\_\_点所在的纬线。

27. 读图回答下列问题。(14分)



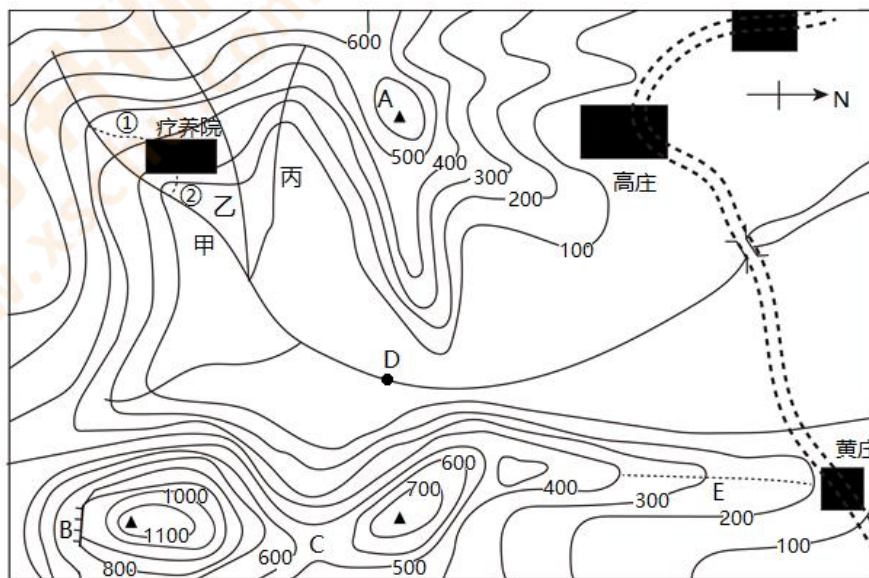
- (1)城市 a (图中圆点处) 的地理坐标是\_\_\_\_\_。(2分)
- (2)请写出国名，我国陆上邻国 A\_\_\_\_，隔海相望的国家 B\_\_\_\_\_。
- (3)请写出北回归线自西向东穿过我国的省份简称，滇、C\_\_\_\_、D\_\_\_\_、台。

(4)主要居住在 E 的少数民族是\_\_\_\_族，省级行政单位 F 全称是\_\_\_\_。

(5)图中海域①~⑥，属于我的内海的是③和\_\_\_\_（填序号），海峡②的名称是\_\_\_\_。

(6)结合图中所给的信息，写出我国纬度位置上的优越性。（4分）

28. 读图“某地区等高线地形图（单位：米，图中比例尺表示 1 厘米=1 千米）”，完成下列问题。（20 分）



(1)写出图中字母对应的山体部位名称：B \_\_\_\_\_ C \_\_\_\_\_ E \_\_\_\_\_

(2)据图推测 A 山峰的海拔是\_\_\_\_米之间；疗养院在高庄的\_\_\_\_方向，两地间的最近实际直线距离（图上距离是 4.3 厘米）是\_\_\_\_千米。

(3)乙、丙两支流，事实上存在的是\_\_\_\_，依据是\_\_\_\_\_。

(4)若将小河甲的水引向疗养院，图中两条规划路线①②，比较合理的是哪一条\_\_\_\_原因是什么\_\_\_\_？