

# 昌平区 2022—2023 学年第一学期小学数学三年级期末自主练习 (1)

2022. 12

学校 \_\_\_\_\_ 班级 \_\_\_\_\_ 姓名 \_\_\_\_\_ 成绩 \_\_\_\_\_

**要求：1. 卷面整洁，字迹工整。2. 用铅笔或钢笔答卷。3. 答卷时间：60 分钟。**

题 号	一	二	三	四	五	六	总 分
得 分							
阅卷人							
复查人							


**一、口算。**

$50 \times 6 =$                $96 \div 3 =$                $40 - 28 =$                $300 \times 6 =$                $5 + 25 =$   
 $65 \div 5 =$                $130 - 90 =$                $29 + 17 =$                $25 \times 4 =$                $77 \div 7 =$

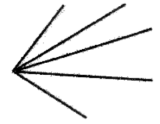
**二、填空。**

(1) (            ) dm = 60cm                      3km300m = (            ) m  
 (2)  $\square \div 7 = 18 \cdots \bigcirc$ ， $\bigcirc$ 里最大填 (            )， $\square$ 里填 (            )。  
 试着写出你的思考： \_\_\_\_\_

(3)  $\bigcirc + \bigcirc + \bigcirc + \triangle + \triangle = 45$   
 $\triangle = \bigcirc + \bigcirc + \bigcirc$   
 $\bigcirc = (            )$                $\triangle = (            )$

(4)  左面的禁止机动车通行标志表示从上午的 (            ) 时 (            ) 分到晚上的 (            ) 时 (            ) 分这段路禁止通行。禁止通行的时间是 (            ) 小时。

(5) 冬冬有 26 本课外书，康康的课外书是冬冬的 2 倍，他们一共有 (            ) 本课外书。

(6)  数一数，左图有 (            ) 个角。

(7) 小宇折了 32 颗立体小星星，小亮折了 24 颗。小宇给小亮 (            ) 颗两人就同样多了。

(8) 星期一早晨，食堂准备的饮品有豆浆和牛奶，主食有包子、油条和面包，饮品和主食都只能选择一种，有 (            ) 种不同的搭配方法。

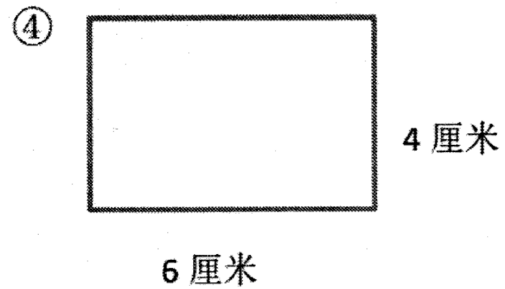
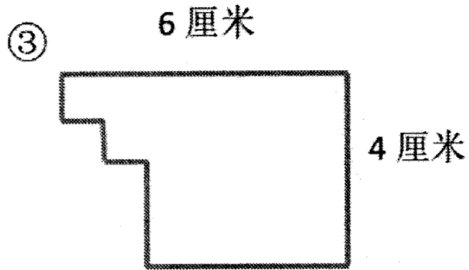
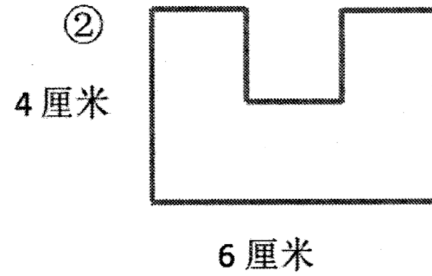
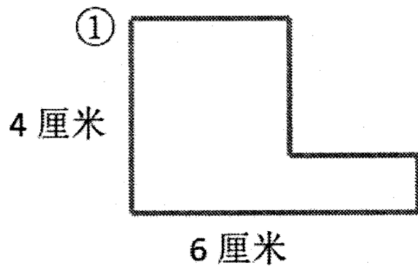
**三、选择正确答案的序号填在括号里。**

- (1) 中央电视塔高 405 (            )。  
 ① km                      ② m                      ③ dm                      ④ cm
- (2) 下面的算式中，商大于 100 的算式是 (            )。  
 ①  $648 \div 9$               ②  $648 \div 8$               ③  $648 \div 7$               ④  $648 \div 6$

(3)  $325 \times 7$  的积是 ( )。

- ① 两位数      ② 三位数      ③ 四位数      ④ 五位数

(4) 下面各图中, ( ) 的周长最长。



(5) 一箱苹果, 第一天卖出全部的一半, 第二天卖出剩下的一半, 还剩下 6 个, 原来这箱苹果有 ( ) 个。

- ① 12      ② 18      ③ 24      ④ 30

(6) 丽丽每天 21 时准时睡觉, 要想睡眠达到 10 小时, 她第二天早上应 ( ) 时起床。

- ① 6      ② 7      ③ 8      ④ 11

#### 四、计算。

(1) 竖式计算:

$$125 \times 6 =$$


$$504 \div 8 =$$

(2) 脱式计算:

$$94 + 46 \times 8$$

$$263 - 425 \div 5$$

五、请利用下面的方格纸，画一个周长是 12 厘米的长方形。(每个小方格的边长是 1 厘米)



六、解决问题。

(1) 芳芳看一本 185 页的故事书，已经看了 87 页，剩下的要一周看完，剩下的平均每天看多少页？


(2) 一只身长 6 厘米的蚱 (zhà) 蚋 (měng)，一次跳跃的距离是它身长的 23 倍。与三年级立定跳远女生优秀水平相差多少厘米？

三年级小学生立定跳远评价标准		
性别	优秀 (厘米)	合格 (厘米)
男	167	147
女	159	139

(3) 快递员王叔叔周一送 125 件快递，周二至周日平均每天送 146 件快递。这一周快递员王叔叔一共送快递多少件？

(4)

一块长方形菜地，长 8 米，宽 4 米。四周围上篱笆，篱笆要多少米？如果一面靠墙，篱笆至少要多少米？



(5) 为了丰富大家的课余生活，学校买来以下体育用品。



足球? 元



篮球128元



排球108元



皮球20元

① 买 3 个足球，给售货员 400 元，找回 40 元，每个足球多少钱？

② 买 6 个排球比 6 个篮球少花多少元？

③ 请你根据上面的信息，提出一个数学问题并解答。

---

---