

一、填空。

1.




小猫每次跳 () 个格子，一共跳了 () 次，就是 () 个 () 相加。

乘法算式是：----- 乘法口诀：-----

2.



高约 ()。



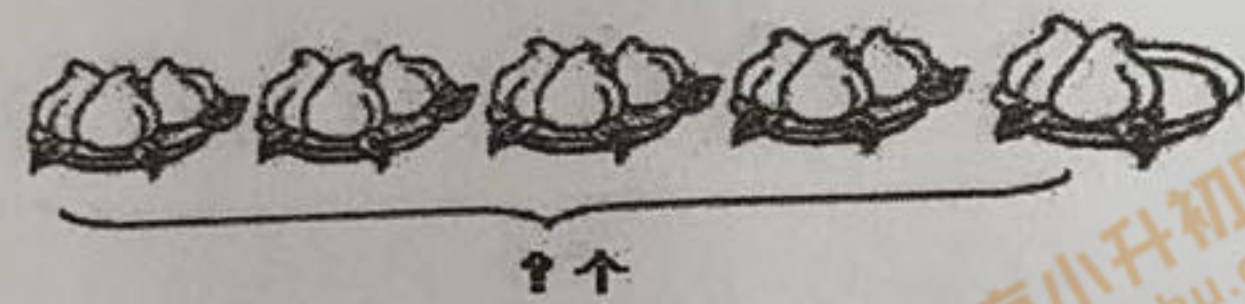
这支铅笔大约长 () 厘米。

3. 3 个 6 相加，和是 ()，3 和 6 相加，和是 ()。

4. 一个乘数是 5，另一个乘数是 8，积是 ()。

5. 如何用加法算式算出 16×3 的结果？

6.



我的算式：-----

7. 请在下面钟面上画出 4:30，这时时针和分针形成的角是 () 角。



8. 下图可以分成 () 个 ()，请你在图中圈一圈。

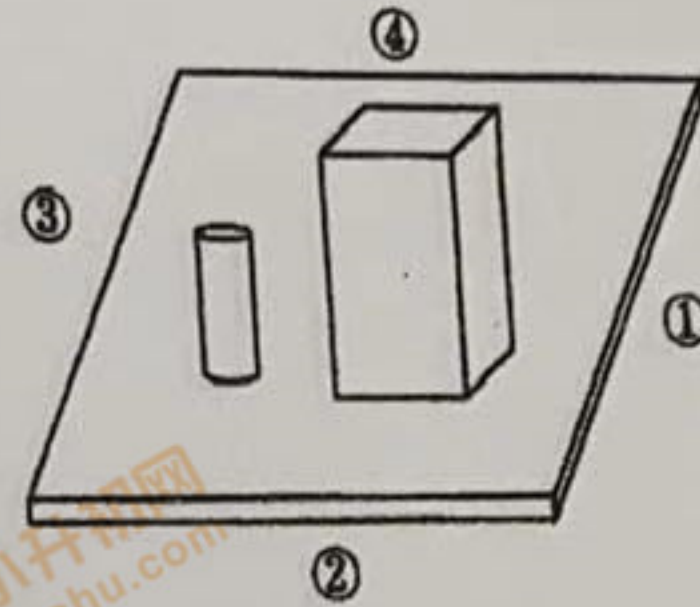
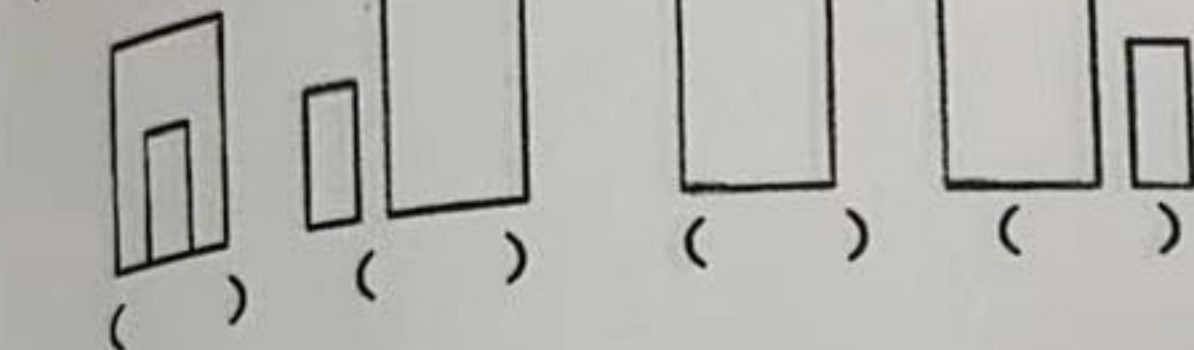


9. 在 () 里填上合适的单位。

① 数学书长 26 ()。② 分针从 12 走到 2，走了 10 ()。

③ 1 米 - 60 厘米 = () 厘米

10. 用 2, 0, 5 组成两位数，每个两位数十位上的数字和个位上的数字不能一样，能组成 () 个两位数。其中最大的数是 ()。



二、直接写得数。

$6 \times 8 + 6 =$ $36 - 6 + 44 =$ $55 - (10 - 5) =$ $53 - 9 - 37 =$
 $36 + 6 - 5 =$ $8 \times 3 + 40 =$ $9 \times 3 - 9 =$ $49 + 26 - 37 =$

三、笔算下面各题。

$90 - 29 =$ $48 + 25 =$ $76 - 47 + 26 =$ $75 - (58 - 24) =$

四、解决问题。

1. 有两个环保小组捡废塑料瓶。第一小组 5 人，每人捡 7 个。第二小组比第一小组少捡 7 个。

(1) 第一小组捡了多少个？


列式：-----

(2) 两个小组一共捡了多少个？

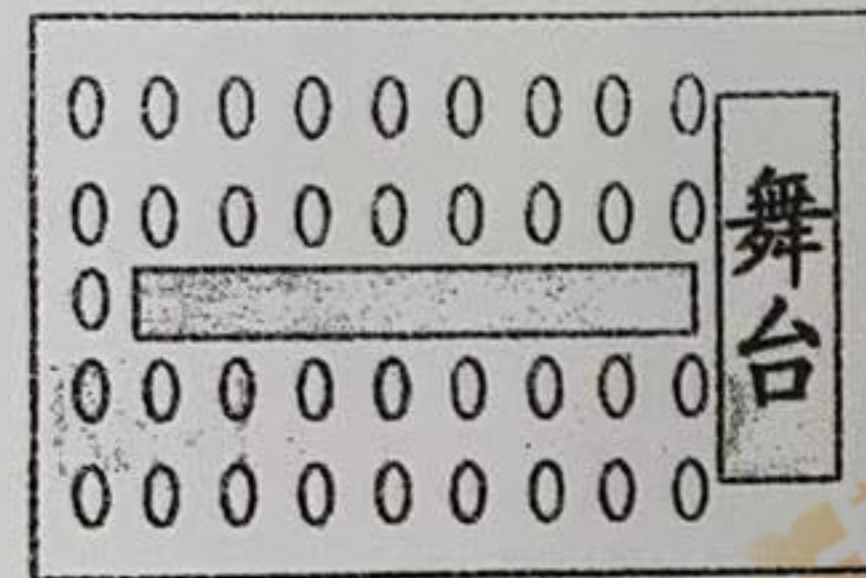
列式：-----

2. 一个玩具熊 45 元，一个足球比玩具熊便宜 9 元，一个足球多少钱？
列式：-----

你的解答正确吗？请在下边的方框中说明你是怎么检查的。



3. 二(1)班有男生 20 名，女生 16 名，一起去礼堂听报告，能坐下吗？

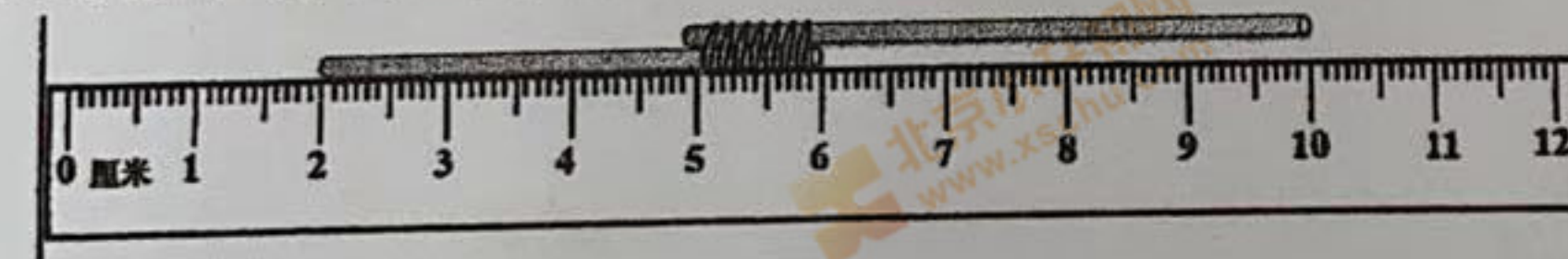


我的解答过程：-----

根据你的解答，画“√”选择正确答案。

能坐下 () 不能坐下 ()

4. 两根木棒用绳子绑在一起后，用尺子测量它的长度，结果如下图。



把绳子拆开后，这两根木棒一共长 () 厘米。

你怎么知道的？在下面画一画、写一写或列算式表达。

