

学校 _____ 班级 _____ 姓名 _____ 成绩 _____


一、看谁算得对。

$$\begin{array}{lll} 2 \times 4 = & 4 \times 7 = & 18 \div 9 = \\ 30 \div 6 = & 48 \div 8 = & 6 \times 3 = \\ 35 \div 5 = & 5 \times 8 = & 45 \div 5 = \\ 3 \times 4 = & 2 \times 2 \times 8 = & 63 \div 9 \times 7 = \end{array}$$

二、在 () 里填上适当的数。

$$\begin{array}{ll} 5 + 5 + 5 = 5 \times () & 2 \times () = 2 + 2 + 2 + 2 \\ () \times 8 = 4 \times 6 & () \times 8 = 64 - 8 \\ 4 \times () = 6 \times 2 & () \times 9 = 80 - 8 \\ 100 \text{ 厘米} = () \text{ 米} & 78 \text{ m} + 22 \text{ m} = () \text{ m} \end{array}$$

三、填一填。




$$\begin{array}{l} 6 \times 6 + 6 \times 1 = 6 \times 7 \\ 6 \times 5 + 6 \times \square = 6 \times 7 \\ 6 \times \square + 6 \times \square = 6 \times 7 \end{array}$$

四、连一连。

3+3+3+3

3+4

3×4





4个3连加


4×3

3个4连加

五、找规律，画一画，填一填。

(1) 

(2) 

(3) 
 $2 \times 2 = 4$ $3 \times 3 = 9$

六、下列现象，是平移的画“—”，是旋转的画“○”。

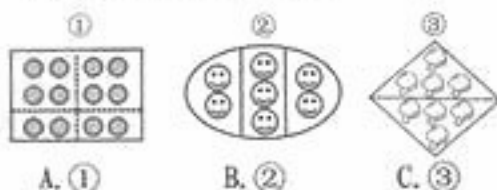


七、把正确答案前的字母填在 () 里。

(1) 铅笔的长是 () 厘米。



(2) 下面表示平均分的是图 ()。




(3) 某市规定，身高在 () 以上的儿童乘坐公交车要购买车票。

A. 1 米 20 厘米 B. 12 厘米 C. 12 米

八、先想一想，再填一填。

(1) 

$$\square \bigcirc \square = \square$$

(2) 

$$\square \bigcirc \square = \square$$

(3) 一共有多少个水果？



学校 _____ 班级 _____ 姓名 _____

九、用竖式计算下面各题。

(1) $54 \div 9 =$

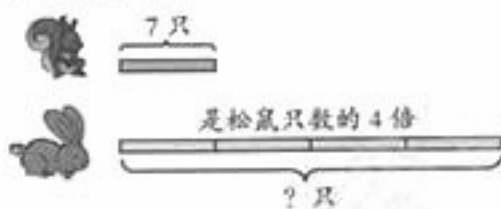
(2) $3 \times 7 =$

十、下面的图分别是你从哪面看到的？写一写。



十一、解决下面的问题。

(1) 看图列式计算。



(2) 门钉是中国古建筑大门上的一种特有的装饰，起到加固的作用，也代表着等级。



故宫的南、西、北门的门钉都是九行九列。

北门有多少个门钉？

(3) 一共有 36 把椅子。



(4) 请你提个问题，并列式计算。



(5) 游乐场。



价目表

旋转木马	18元/人
小火车	3元/人
碰碰车	9元/人

① 旋转木马的价钱是碰碰车的几倍？

② 玩一次碰碰车的价钱，能玩几次小火车？

(6) 爸爸买了 3 排风味酸奶。



好消息
风味酸奶：9元/排

① 一共买了多少瓶？

② 一共花了多少元？