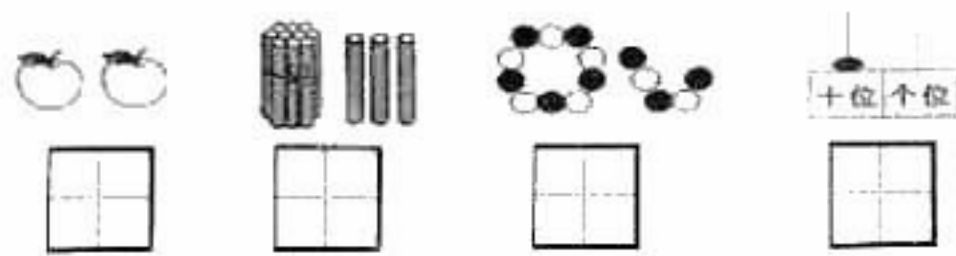



题号				四	五	六	七	总分
得分								
阅卷人								

一、填空。(16分)

(1) 看图写数。



(2) 找规律填数。



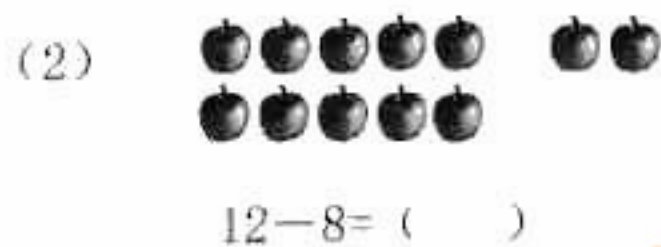
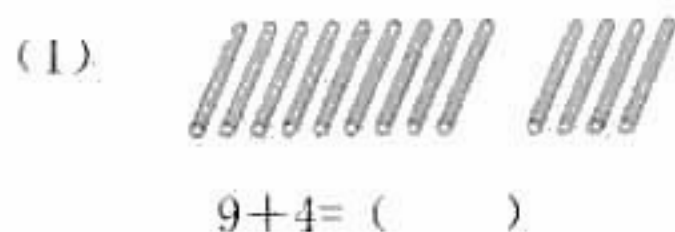
- (3) 1个十和5个一合起来是()。
 (4) 2个十是()。
 (5) 18里面有()个十和()个一。
 (6) 42十位上的数是()，个位上的数是()。
 (7) 和8相邻的数是()和()。
 (8) () - 8 < 4 (在括号里填上一个合适的数。)
 (9) 一只螃蟹 有8条腿，2只螃蟹 一共有()条腿。

二、连一连。(4分)



三、计算。(34分)

1. 先圈一圈，再算一算。(4分)



2. 口算。(20分)

- | | | | |
|----------|---------|---------|-----------|
| $6+2=$ | $5+4=$ | $14-8=$ | $2+3+5=$ |
| $7-0=$ | $9+3=$ | $5+7=$ | $9-4-5=$ |
| $3+7=$ | $17-8=$ | $13-4=$ | $4+6+3=$ |
| $10+2=$ | $6+9=$ | $7+8=$ | $4+7-5=$ |
| $14-10=$ | $0+9=$ | $5+6=$ | $15-5-5=$ |

3. 在下面的○里填上“>”“<”或“=”。(4分)

$19 \bigcirc 20$ $7+10 \bigcirc 18$
 $6+8 \bigcirc 5+8$ $7+2 \bigcirc 2+7$

4. 在下面的()里填上适当的数。(6分)

() + 4 = 9 15 - () = 7 () + 9 = 11
 10 - () = 3 7 + () = 16 12 - () = 10

四、按要求完成下面各题。(11分)

1. 比一比。(3分)

哪根绳子长，在它后面的()里画“√”。



哪个蔬菜最重，在它后面的()里画“√”。



2. 请把下面不是同类的物品圈起来。(1分)



3. 画一画。(4分)

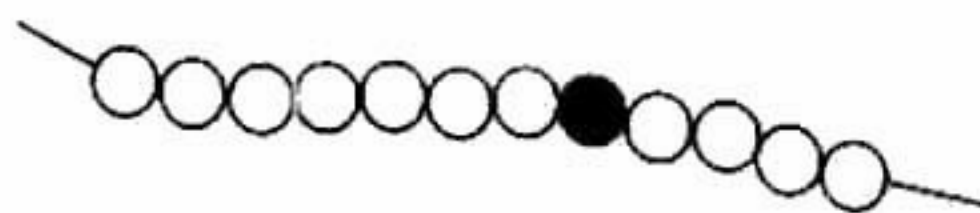
(1) 画△，比○多2个。



(2) 画○，比□少1个。

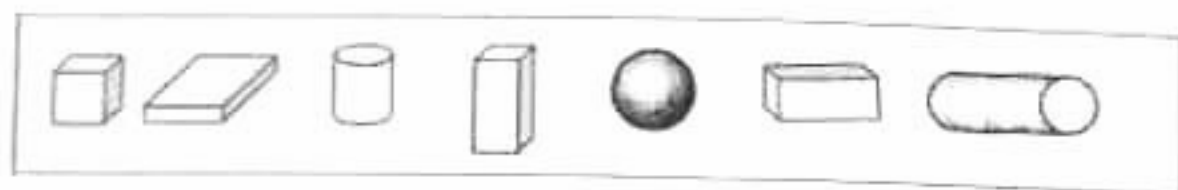


4. 数一数，填一填，圈一圈。(3分)



- (1) 一共有()颗珠子。
 (2) 从右边数，涂色的珠子●排在第()个。
 (3) 圈出3颗珠子。(圈出一种即可)

五、数一数，填一填。(4分)




□ 有 () 个, □ 有 () 个,
 ○ 有 () 个, ○ 有 () 个。

六、看图列式计算。(12分)

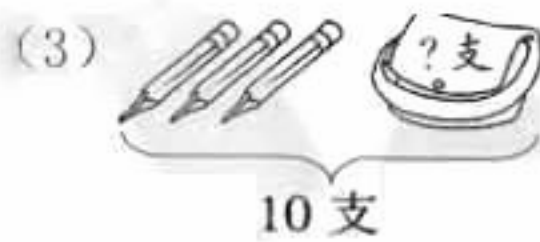
(1) 看图列出两道加法算式和两道减法算式。



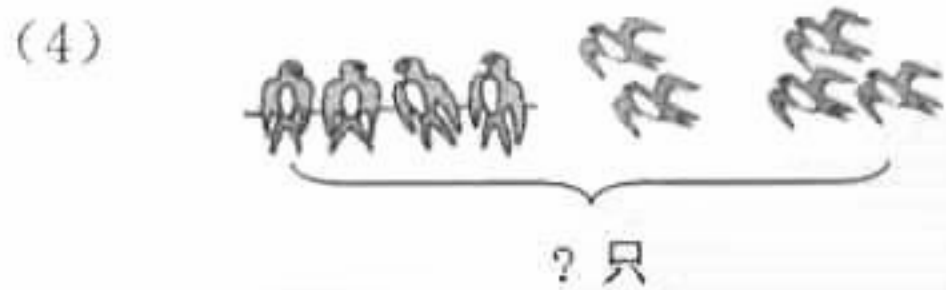
□ ○ □ = □ □ ○ □ = □
 □ ○ □ = □ □ ○ □ = □



□ ○ □ = □



□ ○ □ = □



□ ○ □ ○ □ = □


七、解决问题。(19分)

1. 停车场原来有 8 辆汽车, 又开来了 4 辆, 现在一共有多少辆汽车?



2. 妈妈买了 9 个 , 来客人吃了 3 个, 还剩下几个 ?

3. 乒乓球队男生和女生一共有多少人?



现在树上还剩下几只小鸟?

5. 同学们排队回家, 从前往后数, 小红排在第 6 个, 从后往前数, 小红还是排在第 6 个, 这队一共有多少个同学?

(先把你的想法用画图的方式表达出来, 再列式计算。)



小红