

昌平区 2023—2024 学年第一学期小学数学三年级期末自我挑战 (1)

2024. 1

要求：1. 卷面整洁，字迹工整。2. 用铅笔或钢笔答卷。3. 答卷时间：60 分钟。

题号	一	二	三	四	五	六	总分
得分							
阅卷人							
复查人							

一、直接写出得数。

$40 \times 6 =$	$15 \times 4 =$	$88 \div 4 =$	$3 \times 50 =$	$60 \times 8 =$
$55 \div 5 =$	$66 - 38 =$	$80 \times 0 =$	$60 \div 5 =$	$69 \div 3 =$

二、填空。

(1) $6\text{km}500\text{m} = (\quad)\text{m}$ $20\text{dm} = (\quad)\text{cm}$ $37\text{mm} = (\quad)\text{cm}(\quad)\text{mm}$

$$\begin{array}{r} 194 \\ 3 \overline{) 582} \\ \underline{3} \\ 28 \\ \underline{27} \\ 12 \\ \underline{12} \\ 0 \end{array}$$

(2) 右面的竖式中，□中的余数“1”表示的是 ()。

(3) 星期六下午，小刚整理自己的房间。他从 14:15 开始，到 15:00 完成。他整理房间用了 () 分。

(4) 在 $\square 42 \div 7$ 中，如果商是三位数，□最小填 ()；如果商是两位数，□里最大填 ()。

(5) 一个正方形的周长是 36 厘米，它的边长是 () 厘米。

(6) 王老师买了一件保暖衬衣花了 120 元，一件毛衣的价钱是一件保暖衬衣的 3 倍。一件毛衣 () 元。




(7) 右图中有 () 个角。

(8) 4 本相同的书摞起来，高度是 24 毫米。如果把 40 本这样的书摞起来，高度是 () 厘米。

三、选择题，把正确答案前的字母填写在括号里。

(1) 右图中钥匙长 51 ()。

A. 米 B. 分米 C. 厘米 D. 毫米



(2) 下列算式的积在 4000 至 5000 之间的是 ()。

A. 632×9

B. 5×948

C. 907×6

D. 5×725

(3) 右面方框中是 () 的计算过程。

A. 11×6


B. 16×6

C. 61×6


D. 6×6

$10 \times 6 = 60$
$1 \times 6 = 6$
$60 + 6 = 66$


(4) 下面四组小棒中, 首尾相接能围成长方形的是 ()。



A.



B.



C.



D.

(5) 四个同学一起练习跳绳。



力力

我 1 分钟跳了 89 下。



红红

我 2 分钟跳了 200 多下。



东东



梅梅

我 2 分钟跳了 188 下。

我跳了 300 下, 用时不到 2 分钟。

他们中跳得最快的是 ()。

A. 力力

B. 红红

C. 梅梅

D. 东东

四、计算。

1. 用竖式计算。

(1) $128 \times 5 =$

(2) $525 \div 7 =$

2. 在先算的部分下面画上横线, 再计算。

(1) $231 - 304 \div 8$

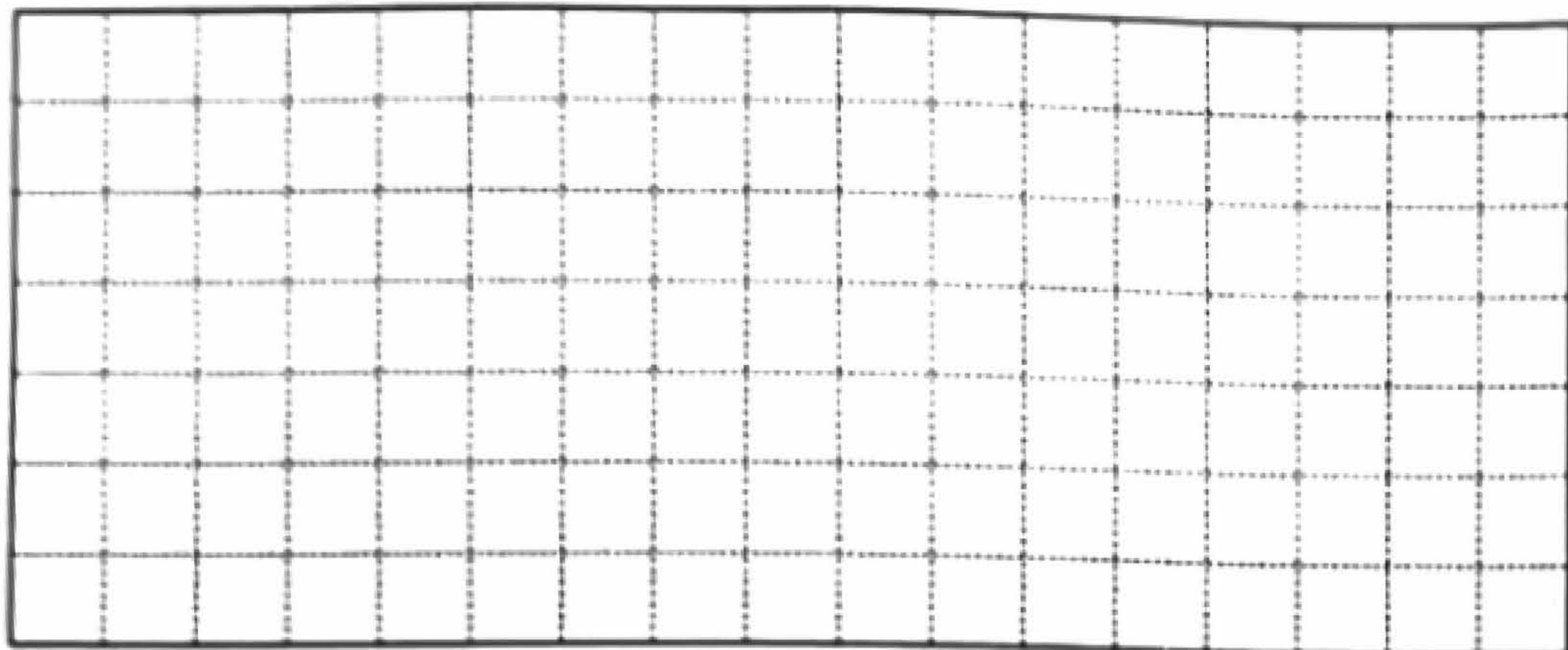
(2) $89 + 36 \times 8$

昌平区 2023—2024 学年第一学期小学数学三年级期末自我挑战 (2)

2024. 1

五、按要求画图 (图中每个小方格的边长表示 1 厘米)。

- (1) 画一个钝角。
- (2) 画一个周长是 14 厘米的长方形。



六、解决问题。

(1) 4月23日是“世界读书日”，这一天小玲买了一本102页的科技书，她每天读9页，读了7天，还剩多少页没有读？

(2) 街心公园种植银杏树和杨树 (情况如下图)，银杏树和杨树一共有多少棵？



(3) 体育课上，三(1)同学站成两排，第一排有18人，第二排有24人，要使两排人数同样多，第二排需要有几人到第一排？(可以画一画，也可以算一算)

(4) 为了保护古树，常常用一些栅栏把它们围起来，如果有 60 米的栅栏，想围成一个边长是 12 米的正方形隔离带，够长吗？请把你思考的过程写下来。



(5) 下面是育英小学作息时间表，请你根据这个作息时间表回答问题。

育英小学作息时间表

上午		下午	
进校:	7:50	午餐和午休:	12:00 - 1:10
第一节课:	8:20 - 9:00	第五节课:	1:30 - 2:10
第二节课:	9:10 - 9:50	眼保健操:	2:10 - 2:15
课间操:	() - 10:20	第六节课:	2:25 - 3:05
第三节课:	10:25 - 11:05	兴趣选修课:	3:15 - 3:55
眼保健操:	11:05 - 11:10	体育活动:	4:05 - 4:25
第四节课:	11:20 - 12:00	作业答疑辅导:	4:30 - 5:30

- ①午餐和午休时间共 () 分。
- ②课间操用时 25 分，请你将课间操的开始时间填入作息时间表的 () 中。
- ③下面这些时刻同学们在做什么？请你仔细观察上面的作息时间表，再连一连。



7:50



14:30



10:00

④请你提出一个数学问题并解答。
