

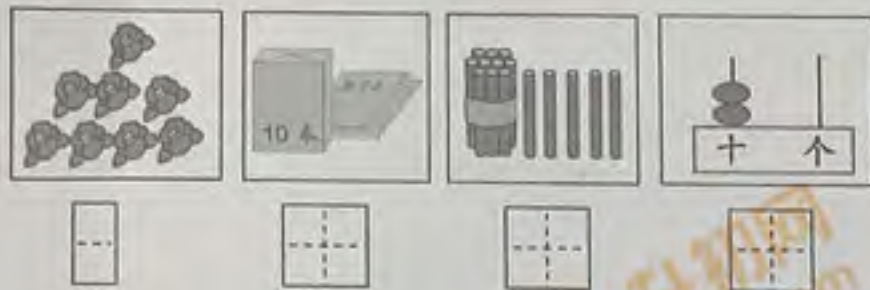
# 丰台区 2020~2021 学年度第一学期一年级数学期末试卷

学校 \_\_\_\_\_ 班级 \_\_\_\_\_ 姓名 \_\_\_\_\_ 成绩 \_\_\_\_\_

## 一、看谁算得对。

$3+6=$	$9-5=$	$4+2=$	$10-3=$
$5+8=$	$6-6=$	$8+9=$	$17-4=$
$7+4=$	$13-3=$	$6+8=$	$12-10=$
$3+9+1=$	$14+5-5=$	$14-2+7=$	

## 二、看图写数。




## 三、填空。

- (1) 1个十和7个一合起来是( )。
- (2) 13里面有( )个十和( )个一。
- (3) 与19相邻的数是( )和( )。
- (4)  $\square > 0$      $8-3 < \square$      $3+\square=12$

## 四、回答问题。

(1)



- ① 按规律填数。
- ② 请你圈出6只。
- ③ 从右数, 排在第( )个。
- ④ 1、3、15这三个数中,( )离11最近。

(2)



我星期一到星期三开会, 开会( )天。

## 五、填一填。



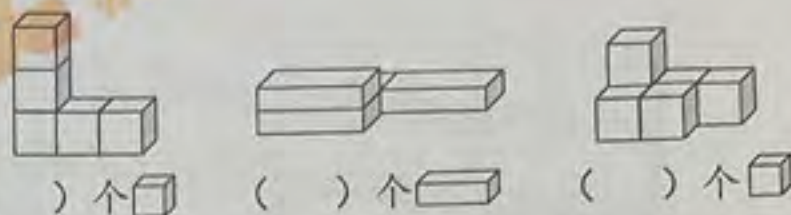
- 在 的( )面。
- 在 的( )面。
- 的( )面是 。
- 的( )面是 。

## 六、连一连。

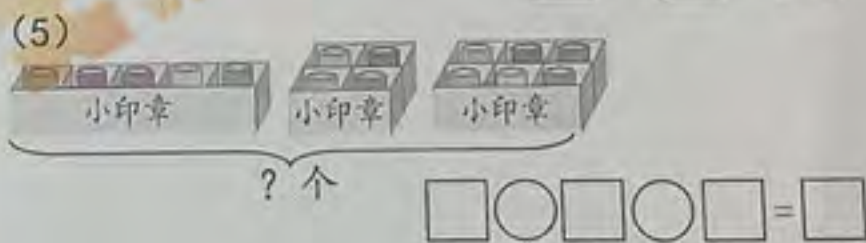
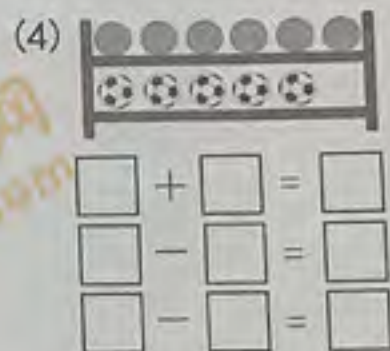
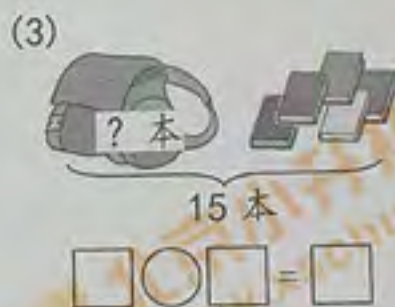



8时      11时      10时刚过      6时

## 七、数一数。



## 八、看图列式计算。



## 九、解决问题。



(1) 怎样解答?(画一画或写一写)

(2) 和 之间有  $\square$  只。