


学 1. 本练习卷共 6 页，共 5 道大题。作答时长 80 分钟。
 生 2. 在练习卷上准确填写学校、班级和姓名。
 须 3. 请仔细阅读题，按题目要求在练习卷相应位置作答。注意书写清晰并保持卷面整洁。
 知 4. 作答结束后按照学校具体要求完成收交。

一、选择题（每小题只有 1 个正确选项，共 8 道小题）

1. 笑笑从窗外向屋里张望，如下面左图，她看到的情景是图（ ）。



2. 在准备新年联欢会时，王老师买了几袋同一种糖，付了 50 元，找回 26 元。她买的糖不可能是（ ）。

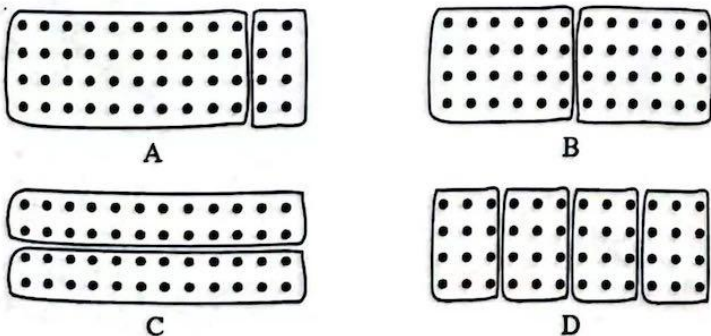


3. 淘气是这样计算“ 12×4 ”的：


$$10 \times 4 = 40, 2 \times 4 = 8, 40 + 8 = 48$$



下面四幅图中，可以表示淘气计算方法的是图（ ）。




4. 笑笑购买了一支铅笔，支付的钱数如右图所示，这支铅笔的价钱是（ ）。

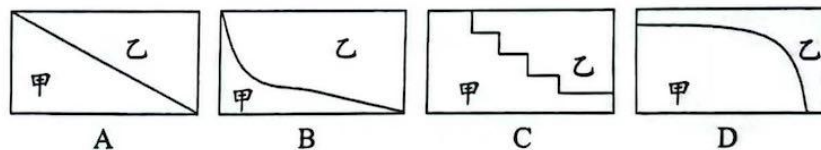


- A. 2.02 元 B. 2.12 元
 C. 3.02 元 D. 3.20 元

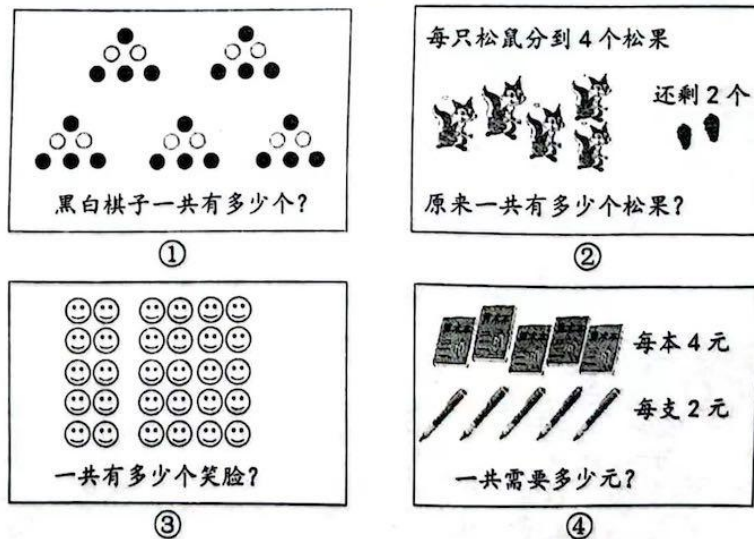
5. 学校 8:20 开始上第一节课，每节课 40 分，课间休息 10 分，冬冬在上午第二节课上看了一下表，他看到的时间可能是（ ）。



6. 把一个长方形用不同的方法分成了甲、乙两部分。以下四种分法中，甲周长比乙周长短的是（ ）。



7. 以下四个问题能用 $(4+2) \times 5$ 解决的（ ）。



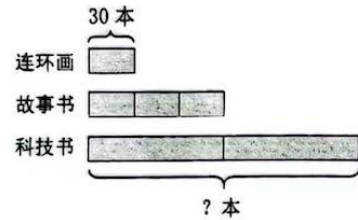
- A. 只有① B. 只有②④ C. 只有①③ D. 只有①③④

四、看图列式计算（共2道小题）

17. 松树种了多少棵？

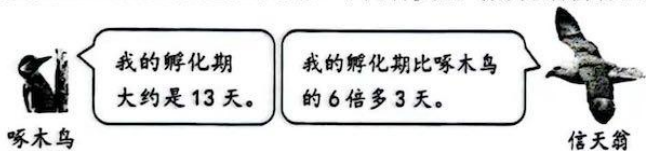


18. 科技书有多少本？



五、解决问题（共5道小题）

19. 鸟类是通过孵化繁殖后代的，不同种类的鸟孵化期会有差异。



信天翁的孵化期大约是多少天？

20. 王阿姨从网上购买了一箱牛奶，订单信息如下图。王阿姨一共付了多少元？



21. 母亲节到了，笑笑买了 6 枝百合花送给妈妈，她付给花店 100 元，应找回多少元？

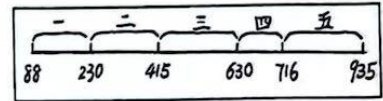
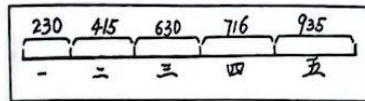


22. 张叔叔是出租车司机。星期一早上出车时，里程表读数是 88 千米。

下面是张叔叔星期一至星期五每天收车时汽车里程表读数。

	星期一	星期二	星期三	星期四	星期五
里程/千米	230	415	630	716	935

(1) 下面哪幅图正确表达了题目的意思？请在相应的括号里画“√”。



()

()

(2) 哪一天行驶的里程数最多？

23. 有 4 个边长为 1 厘米的小正方形（如下图）。



(1) 每个小正方形的周长是 () 厘米，4 个小正方形的周长之和是 () 厘米。

(2) 淘气将这 4 个小正方形连接在一起拼出图 1，它的周长是 () 厘米。




图 1

(3) 按照下面的要求，分别将这 4 个小正方形连接起来，拼出与图 1 形状不同的图 2 和图 3，画在下面的方格纸中。

要求：图 2 与图 1 的周长相等




图 2

要求：图 3 比图 1 的周长短




图 3

(4) 结合以上过程整体思考，你有什么发现？请写在横线上。

8. 林林的哥哥勤工俭学, 平均每个月节余 285 元, 他想用每月节余的钱为奶奶买一台小洗衣机(如右图), 3 个月节余的钱够吗? 下面同学们的想法正确的()。



 奇思 $285 \times 3 = 855$ (元) $855 < 910$ 答: 3个月节余的钱不够。	 淘气 $910 - 285 = 625$ (元) $625 - 285 = 340$ (元) $340 > 285$ 答: 3个月节余的钱够了。
 妙想 把 285 估成 300 $300 \times 3 = 900$ (元) $900 < 910$ 答: 3个月节余的钱不够。	 笑笑 把 910 估成 900 $900 \div 3 = 300$ (元) $300 > 285$ 答: 3个月节余的钱够多。

- A. 只有奇思 B. 只有淘气 C. 只有奇思和妙想 D. 只有淘气和笑笑

二、填空题 (共 5 道小题)

9. 在 \bigcirc 里填上 “>” “<” 或 “=”。

$102 \times 4 \bigcirc 400$

$49 - 3 \times 8 \bigcirc (49 - 3) \times 8$

$960 \div 3 \bigcirc 300$

$3.45 \text{ 元} \bigcirc 3 \text{ 元 } 4 \text{ 角 } 5 \text{ 分}$

10. 5 个 1 角, 就是 5 个 () 元, 是 () 元。
6 个 1 分米, 就是 6 个 () 米, 是 () 米。

11. 把 36 根小棒平均分成 3 份, 每份有多少根小棒? 请你填一填。

$36 \div 3 = \square$ (根)

$\square \div \square = \square$
 $\square \div \square = \square$
 $\square + \square = \square$

可以圈一圈,
先分 3 捆, 再分
剩下的 6 根。

12. 据通知, 北京市的小学 2024 年 1 月 20 日至 2 月 25 日放寒假。

小明是北京市某小学的一名学生, 为了合理规划寒假时间, 他计算出了今年寒假一共有 () 天。

13. 李叔叔一家开车从幸福镇出发去古城游玩, 全程 428 千米, 行驶路线如右图。



- (1) 他出发后, 平均每时行驶 72 千米, 3 时在杨村停车休息。此时, 他开车行驶了 () 千米。
(2) 请在右图中用 “ \triangle ” 标出杨村的大致位置。

三、计算题 (共 3 道小题)

14. 用竖式计算。

(1) $1.8 \text{ 元} + 0.6 \text{ 元} =$
元 角

(2) $48 \times 3 =$

(3) $140 \times 6 =$

15. 计算下面各题。

(1) $347 + 125 - 47$

(2) $5 \times (36 - 19)$

16. 森林医生。

正确的在 \square 里画 “ \checkmark ”, 错误的在 \square 里画 “ \times ”, 并把错误的改正过来。

改正: \square

改正: \square