

大兴区2020年小学毕业考试

答题卡

姓名：_____ 班级：_____ 学号：_____

一、选择题。

- (1) () (2) () (3) () (4) () (5) ()
(6) () (7) () (8) () (9) () (10) ()

二、填空题。

- (11) () () (12) () ()
(13) () () (14) () ()
(15) () (16) ()
(17) () () (18) () ()

三、计算题。

(19) $13 \times 24 - 260$

(20) $9.6 \div 2.4 + 7.8$

(21) $37 \times \frac{3}{20} + \frac{3}{20} \times 63$

(22) $(\frac{3}{4} - \frac{1}{2}) \div \frac{5}{12} + \frac{2}{5}$

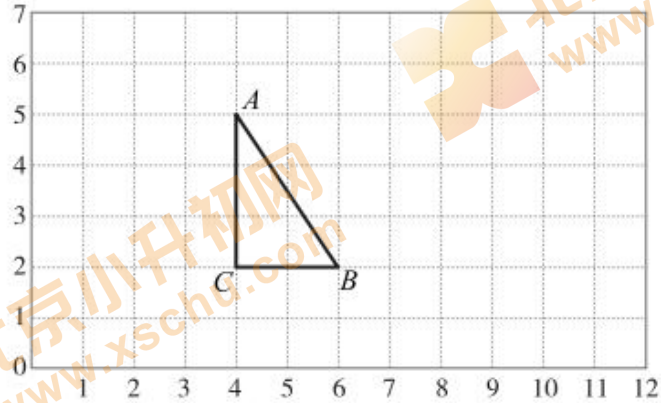
(23) $20 \div [\frac{4}{7} \times (\frac{1}{3} + \frac{5}{6})]$

四、解决问题。

(24) 按要求填一填、画一画。

①下图中，用数对表示点 A 的位置是 $(4, 5)$ ，则点 B 的位置是 (\quad, \quad) ，
点 C 的位置是 (\quad, \quad) 。

②画出图中三角形向右平移 3 格后的图形。



(25)

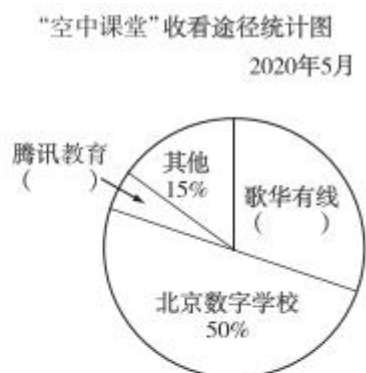
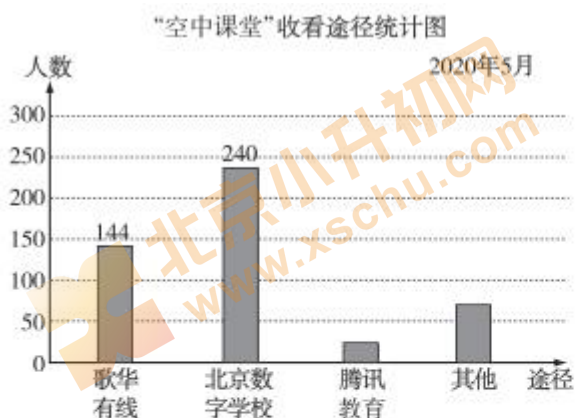
(26)

(27)

(28)

(29)

(30)



- ①一共调查了 () 人。
- ②通过歌华有线收看“空中课堂”的占全部的 ()%。
- ③通过腾讯教育收看“空中课堂”的占全部的 ()%，有 () 人。
- ④通过其他途径收看“空中课堂”的有 () 人。

草稿纸：

