

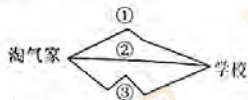
# 2020-2021 学年度一年级第一学期期末数学测试卷

- 考生须知**
1. 本试卷共 4 页, 共 20 道题。
  2. 试题答案一律写在试卷相应的位置。
  3. 用铅笔作答。
  4. 测试结束, 将试卷交回。

## 一、选择题(三个选项只有一项符合题意。共 7 道题, 每题 3 分, 共 21 分。)

1. 淘气从家到学校, 路线 ( ) 最近。

- A. ①      B. ②      C. ③



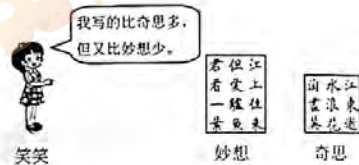
2. “文明礼让我先行, 上下楼梯靠右行。”上下楼时, ( ) 走错了。



- A. 小丽  
B. 小花  
C. 小明

3. 猜一猜, 笑笑可能写了 ( ) 个字。

- A. 8  
B. 11  
C. 14



4. 植树节时, 路的一边种了 8 棵树, 另一边种的同样多, 路两边一共种了 ( ) 棵树。

- A. 8      B. 10      C. 16

5. 小美生病了, 医生刚刚给她测了体温并嘱咐她 1 小时后再测一次体温, 她下次测体温是在 ( )。

- A. 8 时半      B. 9 时半      C. 10 时半

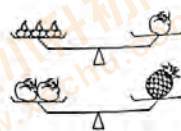


6. 小明邀请他的好朋友们来家里做客, 他拿出 8 个桃子来招待小客人, 每人 1 个, 最后还差 3 个桃子, 小明来了 ( ) 名小客人。

- A. 11      B. 8      C. 5

7. 观察右图, 1 个 相当于 ( ) 个 重。

- A. 2  
B. 3  
C. 6



## 二、填空题(共 5 道题, 每空 2 分, 共 24 分。)

8. 数一数并填空。



( ) 辆



( ) 颗

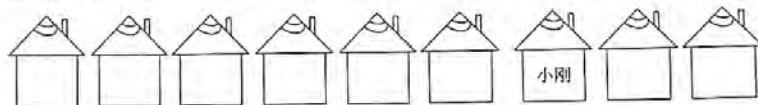


( ) 个

9. 按顺序填数。

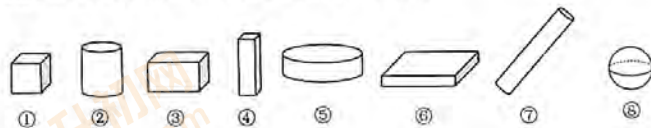


10. 按要求填一填。



- (1) 小红家住在从左数的第 4 间, 请在图中标出小红家。
- (2) 小刚家的左边共有 ( ) 间房子。
- (3) 小红家和小刚家之间有 ( ) 间房子。

11. 请把下面图形按要求分一分, 放入相应的筐里。(填序号)



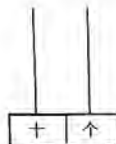
容易滚动的



不容易滚动的

12. 用 3 颗珠子在右边的计数器上能拨出 ( ) 个不同的数,

其中最大的是 ( )。




学号: \_\_\_\_\_ 班级: \_\_\_\_\_ 姓名: \_\_\_\_\_ 学校: \_\_\_\_\_

三、计算题 (共 2 道题, 第 13 题 16 分, 第 14 题 8 分, 共 24 分。)

13. 直接写得数。



$$\begin{array}{cccc} 6+10= & 9+3= & 14-3= & 10-6= \\ 15-2= & 5+4= & 7+7= & 10-10= \end{array}$$

14. 想一想, 填一填。



四、问题解决 (共 6 道题, 第 15 题、第 19 题和第 20 题每题 6 分, 第 16 题和第 17 题每题 4 分, 第 18 题 5 分, 共 31 分。)

15. 看图列式计算。



16. 一袋饼干, 送给笑笑 6 块, 还剩 9 块。这袋饼干原来有多少块?



$$\square \bigcirc \square = \square$$

17. 停车场有 15 辆车, 开走了 5 辆, 还剩多少辆?



$$\square \bigcirc \square = \square$$

18. 淘气原有 8 个棒棒糖, 吃了 5 个后妈妈又买来了 7 个, 淘气现在有多少个棒棒糖?



$$\square \bigcirc \square \bigcirc \square = \square$$

19. 购物。



(1) 买一个 和一杯 , 一共多少元?

$$\square \bigcirc \square = \square$$

(2) 一个 和一个 共 7 元, 一个 多少元?

$$\square \bigcirc \square = \square$$

(3) 请你提出一个可以用减法来解决的问题。

?

20. 排队买票。



(1) 奇奇的前面有 5 人, 他排在第 ( ) 个。请在图中找到奇奇, 并把他的名字标在图中。

(2) 奇奇的后面还有 5 人, 一共有多少人在排队买票?

$$\square \bigcirc \square = \square$$