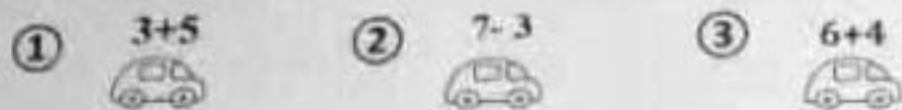


一、选择正确答案的序号填在 () 里。(21 分)

1. 根据花瓶上的数字 15, 可插在右边花瓶里的花是 ()。



2. 得数小的车先到车站, 第一个到车站的是 () 号车。



3. 谁搭的积木不稳 ()。




4. 下面图中不是 14 的是 ()。



二、我会填。(24 分)

- 18 和 20 中间的数是 ()。
- 16 和 13 两个数, () 接近 10, () 接近 20。




① 一共有 () 个数, 其中最大的数是 (), 最小的数是 ()。

② 从左往右数, 20 是第 () 个数, 5 是第 () 个数。

③ 从右往左数, 第三个数是 ()。

④ 请把上面的数按从大到小的顺序排一排。



三、我会准确报时。(3 分)




妈妈起床的时间是 ()。

四、根据算式画一画, 把算式补充完整。(8 分)

1. $4 + () = 10$



2. $() + 8 = 15$



五、仔细数一数, 再填空。(8 分)

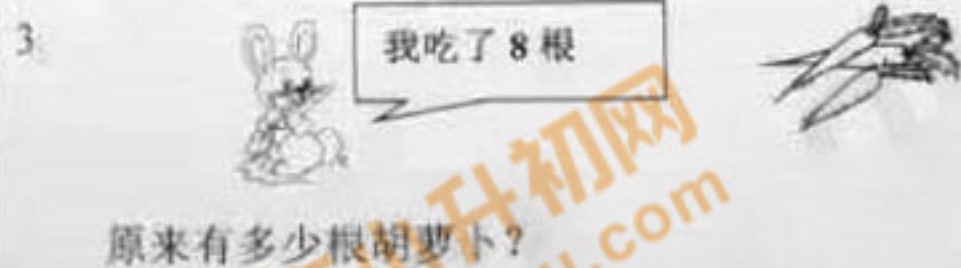



六、仔细看图, 列出 1 个加法算式, 2 个减法算式。(9 分)



() + () = ()
 () - () = ()
 () - () = ()

七、解决问题。(27 分)



□ ○ □ = □ (根)

4. 小熊排队做游戏, 它们之间有几只小熊?



5. 如果把下面其中两堆花给小红。



① 小红最多有几朵? □ ○ □ = □ (朵)

② 小红最少有几朵? □ ○ □ = □ (朵)