

# 333 丰台区 2022~2023 学年度第一学期三年级数学期末试卷 (共 2 页第 1 页)

学校 \_\_\_\_\_ 班级 \_\_\_\_\_ 姓名 \_\_\_\_\_ 成绩 \_\_\_\_\_

## 一、直接写出得数。

$30 \times 4 =$	$21 \times 3 =$	$400 \times 2 =$
$25 + 14 =$	$38 + 42 =$	$60 - 36 =$
$0 \times 47 =$	$\frac{1}{7} + \frac{3}{7} =$	$1 - \frac{1}{6} =$

## 二、填空。

- (1) 1 分 40 秒 = ( ) 秒
- (2) 写字台的高大约 8 ( )。
- (3) 中国高铁世界闻名。“复兴号”中国标准动车组，按照每小时 350 ( ) 运行，北京到上海大约用 4 个半小时就可以到达。
- (4) 一袋面粉重 25 千克，( ) 袋这样的面粉合起来重 1 吨。
- (5) 一台护眼灯原价 798 元，“双 11”优惠价 599 元，大约便宜了 ( ) 元。
- (6) 下图中，○的个数是△的 ( ) 倍。  

△	△	△					
○	○	○	○	○	○	○	○
- (7) 小明的爸爸每天开车上下班。上班出发时，汽车里程表的读数是 240 千米，回到家时里程表的读数是 302 千米，他行了 ( ) 千米。
- (8)  $\frac{4}{5}$  里有 ( ) 个  $\frac{1}{5}$ 。
- (9) 学校给学生编号，规定末尾用 1 表示男生，用 2 表示女生。编号“202202161”表示 2022 年入学的 (2) 班的第 16 号同学，该同学是男生；小丽是 2022 年入学的 (4) 班的第 5 号同学，该同学是女生。她的编号应是 ( )。
- (10) 用 24 张边长 1 厘米的正方形纸拼摆大长方形(不要重叠)，周长最短是 ( ) 厘米。

## 三、在○里填上>、<或=。

$102 \times 6 \bigcirc 600$	$36 + 25 \bigcirc 70$
$412 + 305 \bigcirc 700$	$25 \times 4 \times 2 \bigcirc 200$
$800 \bigcirc 89 \times 8$	$100 \bigcirc 658 - 519$

## 四、用竖式计算下面各题，并验算 (4) 小题。

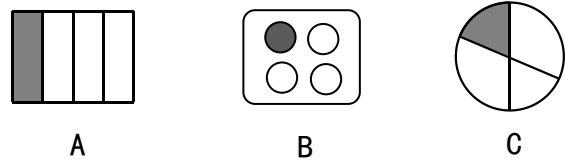
(1)  $48 \times 6 =$                       (2)  $115 \times 4 =$

(3)  $261 + 285 =$                       (4)  $524 - 218 =$

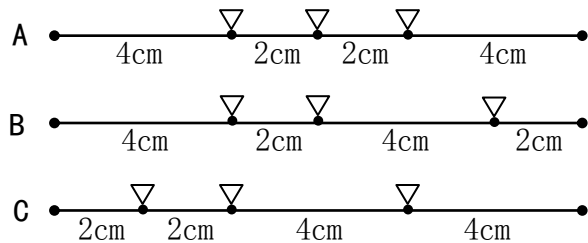
验算

## 五、把正确答案前的字母填在 ( ) 里。

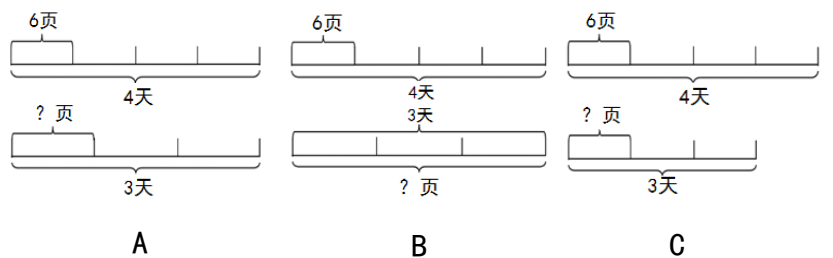
- (1) 1 秒可以 ( )。  
A. 背一首杜牧的《山行》    B. 眨眼 1 次    C. 跳绳 10 个
- (2) 一箱矿泉水 24 瓶，买 8 箱同样的矿泉水一定 ( )。  
A. 比 160 瓶少    B. 比 240 瓶多    C. 比 160 瓶多，比 240 瓶少
- (3) 在口算  $64 - 28$  时，可以先算  $64 - 30 = 34$ ，再算 ( )。  
A.  $34 + 2$     B.  $34 - 2$     C.  $34 - 8$
- (4) 下面图形中涂色部分不能用  $\frac{1}{4}$  表示的是 ( )。



- (5) 在各“▽”处顺次折叠，能围成一个长方形的是 ( )。




- (6) 明明读一本书，每天读 6 页，4 天可以读完；如果要 3 天读完，平均每天读多少页。下面线段图中可以表示题目意思的是 ( )。



- (7) 有 12 根胡萝卜 (如右图)。

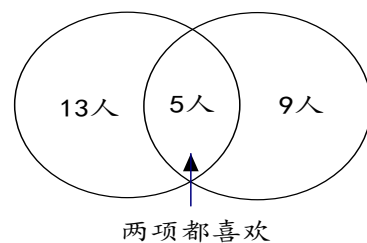
小白兔吃了全部的  $\frac{1}{3}$ ，它吃了 ( ) 根。



- A. 3                      B. 4                      C. 6

- (8) 下面是三 (2) 班同学喜欢“踢足球”和“打篮球”情况的调查统计，喜欢“踢足球”的同学共有 ( ) 人。

喜欢“踢足球”    喜欢“打篮球”




- A. 13                      B. 18                      C. 27

# 丰台区 2022~2023 学年度第一学期三年级数学期末试卷（共 2 页第 2 页）

学校 \_\_\_\_\_ 班级 \_\_\_\_\_ 姓名 \_\_\_\_\_

## 六、观察与操作。

(1) 看图，曲别针的长是 ( ) mm。



(2) 小红的彩带长度是小明的 4 倍。观察甲、乙两条彩带，哪条是小红的？在小红的彩带上画“√”。

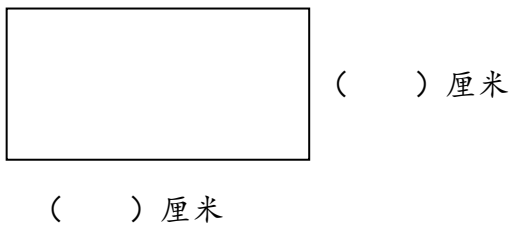


(3) 根据幸福小学的作息时间表填空。


- ①如果某同学从家到学校要走 10 分钟，他早上最晚 ( ) 从家出发，才能第一节课不迟到。
- ②上午 10:10 同学们正在 ( )。
- ③ 每节课时长 ( ) 分钟。

幸福小学作息时间表（上午）	
8:20~9:00	第一节课
9:10~9:50	第二节课
9:50~9:55	眼保健操
10:05~10:30	课间操
10:30~11:10	第三节课
11:20~12:00	第四节课
12:00~12:30	午餐

(4) 量一量，画一画，算一算。



- ①测量上面长方形的长和宽（取整厘米数），填在相应位置。
- ②用 2 个上面的长方形，拼成一个正方形，把这个正方形画在下面的方格纸上。（下面方格纸中每个小正方形的边长表示 1 厘米）



③拼成的正方形的周长是 ( ) 厘米。

## 七、解决问题。

(1) 买 8 盒这样的口罩，估算一下，带 400 元够吗？

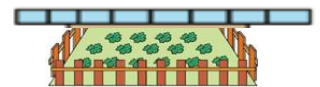


52 元/盒

(2) 中秋节前夕，食品加工厂制作了一批月饼，4 盒装了 36 块，照这样计算，120 盒可以装多少块月饼？

(3) 三（1）班准备举办 2023 年元旦联欢会，老师要买一些奖品。每根棒棒糖 4 元，可以买 18 根；用同样的钱，如果买三角尺，每副 8 元，可以买多少副？

(4) 张叔叔靠墙用围栏围成了一块长方形苗圃（如图），这块苗圃长 30 米，宽 20 米，围栏的长度是多少米？



(5) 妈妈在商场购买了几件衣服，不小心将购物小票撕坏了，请你算一算妈妈共付了多少钱？

购物小票			
物品	数量	金额	
秋季连衣裙 L 码	1 件	289 元	
中长款风衣 L 码	1 件	315 元	
牛仔裤 28 码	1 条	209 元	
付款金额			