

数学


学校名称	姓名	准考证号
<p>考生须知</p> <p>1.答题前，考生务必将自己的准考证号、学校名称、姓名填写清楚，请认真核对条形码上的准考证号、姓名，确认无误后粘贴在条形码框内。</p> <p>2.本答题卡中的选择题用 2B 铅笔作答，其他试题用黑色字迹签字笔作答。</p> <p>3.修改选择题答案时，请用橡皮擦干净后重新填涂。</p> <p>4.请按照题号顺序在各题目的答题区域内作答，未在对应的答题区域作答或超出答题区域的作答均不给分。</p>		
<div style="border: 1px solid black; padding: 10px; width: fit-content; margin: 0 auto;">条形码粘贴区域</div>		
正确填涂示例		
缺考标记: <input type="checkbox"/> 监考老师代涂缺考标记		

一、直接写出下面各题的得数。(本题共 4 分，每小题 1 分)

$0.8 + 0.6 =$ $20 \times 40 =$ $13 \times 30 =$ $3600 \div 6 =$

二、填空。(本题共 22 分，每空 2 分)

- (1) 14 时是下午_____时。
- (2) 在横线上填上合适的单位。
- ① 数学书封面面积约 500_____。 ② 教室的地面面积大约 68_____。
- (3) 将图中箭头所指的位置分别用分数和小数表示出来。



- (4) 下面是 2017 年和 2021 年我国居民人均预期寿命统计表。(单位: 岁)

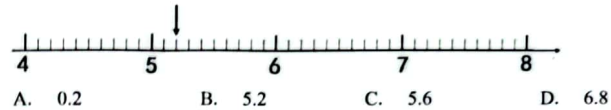
年份	2017	2021
年龄	76.7	78.2

- 从 2017 年到 2021 年，我国居民人均预期寿命增长了_____岁。
- (5) 一部 8 集儿童科普剧播放时间共 336 分钟，平均每集播放_____分钟。
- (6) 按规律接着往下写。
- 0.3, 1.0, 1.7, 2.4, _____, _____。
- (7) 体育课上，同学们面向“西”排成两队。老师发出“向右转”的口令，同学们按口令转体后，这时面向的方向是_____。
- (8) 蚂蚁之间有一种特殊的交流方式，它们通过触碰触角交流信息。有 5 只蚂蚁，每 2 只碰一次触角，它们一共需要碰_____次触角。



三、选择正确答案的序号填在括号里。(本题共 21 分，每小题 3 分)

- (1) 下图中箭头所指的位置用小数表示是()。

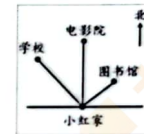


- (2) 下面算式中，商是两位数的是()。

A. $532 \div 4$ B. $630 \div 5$ C. $938 \div 7$ D. $408 \div 8$

- (3) 观察右图，学校在小红家的()方向。


- A. 西北 B. 东北
C. 西南 D. 东南



- (4) 一只老虎的体重是一只梅花鹿的 3 倍，老虎体重 240 千克，梅花鹿体重()千克。

- A. 30 B. 60 C. 80 D. 720

- (5) 比较下面三个图形的周长和面积，它们的()。



- A. 周长相等，面积相等 B. 周长相等，面积不相等
C. 周长不相等，面积相等 D. 周长不相等，面积不相等

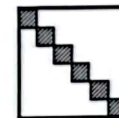
- (6) 用 3、4、5、6 这四个数组成两个两位数，()的乘积最大。

A. 56×34 B. 45×36 C. 65×43 D. 63×54

- (7) 芳芳用边长 1 厘米的小正方形，在大正方形中摆出了右面的图形。


这个大正方形的面积是()平方厘米。

- A. 36 B. 30 C. 24 D. 6



四、按要求画图。(本题共3分)

在方格纸中画一个图形，使所画图形的面积是图中长方形面积的2倍。



五、用竖式计算。(本题共 20 分，每小题 5 分)

(1) $12.6 + 15.9 =$

(2) $41.8 - 25.2 =$

(3) $608 \div 4 =$

(4) $36 \times 12 =$

六、解决问题。(本题共 30 分，每小题 6 分)

(1) 结合图中的数据说明，这辆货车能顺利通过限高架吗？



(2) 街心花园有一个长 12 米、宽 4 米的长方形花坛。这个花坛的面积是多少平方米？

(3) 立新小学阅览室新买了 360 本书，放在 2 个书架上，每个书架有 4 层。平均每个书架每层放多少本书？

(4) 2023 年 5 月 30 日，我国搭载神舟十六号载人飞船的长征二号 F 遥十六运载火箭发射取得圆满成功。景海鹏、朱杨柱、桂海潮 3 名航天员将在太空驻留约 5 个月，计划今年 11 月返回东风着陆场。请你计算 6 月至 10 月，这 5 个月一共有多少天？

(5) 下面是三年级两个班学生 1 分钟仰卧起坐成绩统计表。

1 分钟仰卧起坐做 42 个及以上为优秀，做 36—41 个为良好，做 16—35 个为及格，做 15 个及以下为不及格。

成绩	优秀	良好	及格	不及格
三(1)班人数	8	17	6	4
三(2)班人数	12	19	4	1

- ① 三(1)班共有学生 _____ 人。
- ② 三(1)班优秀人数和三(2)班优秀人数相差 _____ 人。
- ③ 园园 1 分钟做了 40 个仰卧起坐，她达到了 _____ 等级。
- ④ 三(1)班和三(2)班比较，哪个班做仰卧起坐的成绩好？请说明理由。

我认为三 _____ 班的成绩好。

因为： _____