

丰台区 2017~2018 学年度第一学期二年级数学期末试卷(共 2 页 第 1 页)

学校\_\_\_\_\_ 班级\_\_\_\_\_ 姓名\_\_\_\_\_ 成绩\_\_\_\_\_

一、看谁算得对。

$$\begin{array}{lll} 3 \times 6 = & 30 \div 5 = & 21 \div 7 = \\ 45 \div 5 = & 8 \times 4 = & 8 \times 6 = \\ 7 \times 9 = & 64 \div 8 = & 54 \div 9 \times 2 = \\ 81 \div 9 = & 7 \times 6 = & 6 \times 4 \div 3 = \end{array}$$

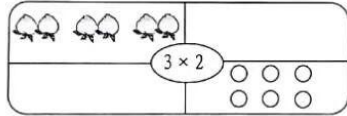
二、在 ( ) 里填上适当的数。

$$\begin{array}{ll} 3 \times 6 = ( ) \times 9 & 6 \times ( ) = 6 + 6 + 6 + 6 \\ ( ) \times 9 = 60 - 6 & 78\text{m} - 20\text{m} = ( ) \text{m} \\ 65\text{cm} + 35\text{cm} = ( ) \text{cm} = ( ) \text{m} \end{array}$$

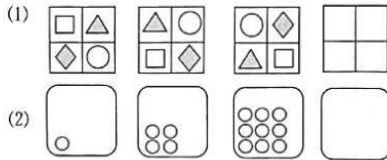
三、盖住的是几?

$$\begin{array}{lll} 6 \times \text{花} = 18 & 4 \times \text{花} = 20 & 7 \times \text{花} = 56 \\ 5 \times \text{花} = 35 & 8 \times \text{花} = 72 & 6 \times \text{花} = 54 \end{array}$$

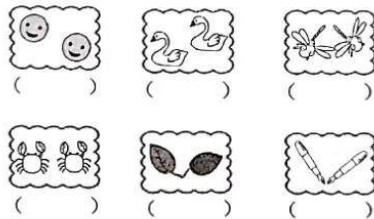
四、根据下面算式的意思,你也画一画。



五、第四幅图是怎样的?请画出来。



六、下面每幅图都是由一个图形经过运动得到的。平移的画“→”,旋转的画“○”。



七、先想一想,再填一填。

(1)一共有多少人?



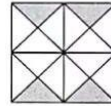
$$\square \bigcirc \square = \square$$

(2)



$$\square \bigcirc \square = \square$$

(3)白色三角形是黑色的几倍?



$$\square \bigcirc \square = \square$$

(4)



$$\square \bigcirc \square \bigcirc \square = \square$$

(5)平均每人分几个花片?



$$\square \bigcirc \square = \square$$


八、用竖式计算下面各题。

(1)  $40 \div 8 =$  (2)  $3 \times 9 =$

丰台区 2017~2018 学年度第一学期二年级数学期末试卷(共 2 页 第 2 页)

学校 \_\_\_\_\_ 班级 \_\_\_\_\_ 姓名 \_\_\_\_\_

九、下面的四幅图是谁看到的？连一连。



十、填一填。

(1) 量一量。



这张彩条长( ) 厘米。

(2) 估一估。



灰色纸条的长度是黑色的( ) 倍。

十一、解决问题



① 一共花了多少元?

② 应该找回多少元?

(2) 李老师带着 18 个同学去游乐场。



① 8 人去坐小火车, 买票一共需要多少钱?

② 如果同学们都去坐碰碰车, 需要几辆车?

(3)



① 小鹿身高多少米?

② 小鹿的身高是小象的几倍?

(4) 根据下图所给的信息, 请你提出一个问题, 并列式解答。

