

注意
事项

考生必须按要求如实填写校名、班级和姓名。

不读题，不讲题，监考人员不解答问题。

要求字迹清楚，卷面整洁。

学校

班级

姓名

2022—2023 学年度第一学期通州区小学五年级 道德与法治综合练习

(时长:50 分钟)

一、单选题。(在下列各题选项中,请选择一项你认为的最佳答案)

- 五(1)班同学围绕“周末参加社区组织的环保行动”展开讨论,你认为正确的观点是_____。
A. 环保行动非常辛苦,不愿意参加 B. 环保行动很有意义,有必要参加
C. 如果能获得奖励,当然愿意参加 D. 环保行动耽误学习,没必要参加
- 学校组织合唱节,同学们在服装问题上产生了分歧,对于不同的看法,应该采取的态度是_____。
A. 真诚坦率与人沟通 B. 简单粗暴拒绝他人
C. 一味接受别人观点 D. 强调理由不听别人
- 小明从新闻中了解到四川大凉山彝族很多孩子因为贫困而辍学,来自全国各族人民的无私援助,帮助他们重回校园。这个案例体现的是_____。
A. 各民族之间存在文化差异 B. 各民族共同创造中华文化
C. 各民族之间谁也离不开谁 D. 各民族之间需要守望相助
- 右图呈现的是甲骨文“友”字,字形由两只方向相同的手构成,这个字的背后体现的中华民族传统美德是_____。
A. 真诚相待 B. 真诚无私
C. 彼此友好 D. 律己修身



二、多选题。(在下列各题选项中,请选择你认为适合的答案)

- 在“拒绝烟酒,远离危害”的讨论中,以下同学对吸烟、饮酒的认识你认为正确的是_____。
A. 能让人忘记烦恼,心情不好时可以解忧
B. 能结交新朋友,吸烟饮酒还是有好处的
C. 会影响青少年身心发展,应该主动拒绝
D. 会形成不良的生活习惯,小学生不要尝试
- 五(3)班在选举班委过程中,以下几名同学产生了不同观点,你认为正确的是_____。
A. 我不想当班委,最终选谁都跟我没关系
B. 我赞同民主选举,这样的班委更让人信服
C. 我认为班委就应该学习好,可以按照成绩选
D. 班委可以轮流当,人人有机会参与班级管理
- 在布置“祖国真辽阔”的展板时,同学们收集了不同的资料,你认为符合主题要求的是_____。
A. 祖国领土面积的数据 B. 邻国众多的政区图
C. 赞美祖国山河的诗歌 D. 北京市行政区划图

4. 学校开展爱国主义教育,设计了“爱国,我们在行动”调查问卷,你认为下列行为属于爱国表现的是_____。

- A. 保护自然环境
B. 遵守公共秩序
C. 弘扬中华文化
D. 积极宣传宪法


三、列举题。

1. 丰富的课余生活有助于我们健康发展,请列举三个你经常参与的课余生活,如摄影,_____、_____、_____。

2. 我国的地形复杂,多种多样。请列举三种我国的主要地形,如丘陵、_____、_____、_____。

四、连线题。

1. 请将下列文物与相应的古代技术连线。



司母戊鼎(商朝) 素纱禅衣(西汉) 青瓷四系罐(东汉) 赵州桥(隋朝) 都江堰(战国)

瓷器制作技术

青铜冶炼技术

缫丝织造技术

水利工程技术

桥梁设计技术

2. 将下列古代故事与产生的思想及衍生的名言连线。

苏武牧羊

明志

“有志者事竟成”

范式赴约

诚信

“日新之谓盛德”

宗彦乘长风破万里浪

求新

“富贵不能淫”

胡服骑射

气节

“轻诺必寡信”

五、观点辨析并说明理由。

情境一

五(1)班要组织一次“诗歌朗诵”的主题活动。同学们针对此次活动方案设计展开了讨论。

B: 我们可以召开一次班会来确定组织活动方案。()

C: 我们可以采取协商或投票表决的方式通过决议。()

A: 主题活动是由班主任老师主要设计的,我们的任务是接受安排。()



D: 活动方案有其他同学参与设计呢,我想先完成老师布置的家庭作业。()

1. 在支持的观点后面画“√”,不支持的画“×”。

2. 你不支持_____的观点,理由是_____


情境二

五(1)班同学围绕“我国古老的汉字”这一话题展开了讨论,请你参与他们的观点辨析。

A: 我发现甲骨文的“日”字就像一幅画着太阳的画,这表明我们的祖先是在观察大自然中创造了文字。()

B: 我发现甲骨文的“禾”很像是田间长的禾苗,这表明祖先是在劳动体验中创造了文字。()


C: 我们只需要认识甲骨文就可以了,不需要对它进行深入研究了。()



3. 在支持的观点后面画“√”,不支持的画“×”。

4. 你不支持_____的观点,理由是_____

六、看图回答问题。



(1) _____ (2) _____

世界文化遗产是那些对全世界人类都具有重要意义和普遍性价值的文化。根据联合国教科文组织《保护世界文化和自然遗产公约》的规定,整个国际社会都有责任通过合作保护世界自然遗产。

1. 在横线上写出我国的两处世界文化与自然双重遗产名称。


2. 为什么说“整个国际社会都有责任通过合作保护世界自然遗产”?

3. 请为资料中的一处世界文化遗产设计宣传语。

七、分析资料,回答问题。

资料一

根据人口普查数据,1982年,有18个少数民族在全国省级行政区域均有分布。这一数量在1990年、2000年、2010年分别增加到22个、28个、43个。2000年,民族成分齐全的省级行政区域有11个;2010年,这一数量增加到20个。



当地群众在青海境内的沱沱河大桥桥头欢迎从格尔木出发的列车。

“天路”颂歌
……那是一条神奇的天路。把人间的温暖送到边疆。从此山不再高,路不再漫长,各族儿女欢聚一堂。……
2006年7月1日,青藏铁路全线通车,为了建造青藏铁路,有的汉族专家从20世纪70年代起就离开自己的家乡来到青藏高原,把灿烂的青春献给了青藏高原。在建设过程中,藏族与汉族等多民族建设者在一起,解决了高原铁路建设中的一个又一个难题。

1. 阅读资料,从人口普查数字的变化中,你对民族分布有什么发现?

_____。

2. 资料中提到的“神奇的天路”指的是什么?人们为什么唱到“把人间的温暖送到边疆”?

_____。

3. 这条铁路是汉族与藏族等多民族建设者一起建设的,如果让你给这条路重新命名的话,你认为它还可以叫什么路?

_____。

资料二

中医药作为中华民族原创的一门科学,在历史上,帮助中华民族一次次战胜天灾和瘟疫。全球抗击新冠肺炎疫情中,中医药再次大显身手,为成功防控疫情发挥了关键性作用。

习近平总书记也曾指出,中医药学是“中国古代科学的瑰宝”,是我国各族人民在长期生产生活和同疾病作斗争中逐步形成并不断丰富发展的医学科学,是我国具有独特理论和技术方法的体系。一定要把中医药这一祖先留给我们的宝贵财富继承好、发展好、利用好,在建设健康中国、实现中国梦的伟大征程中谱写新的篇章。



北京同仁堂
在阿联酋迪拜
开办的分店



在冬奥会上
外国人接受中
医推拿、按摩

截止到2019年,北京同仁堂的品牌门店已遍布全球五大洲28个国家和地区,开设药店、诊所、医学文化中心等各类终端149个。

4. 通过阅读资料三,你对中医药文化有哪些了解?(至少写出两点)

_____。

5. 请列举一个你或家人用中医药养生或治病的事例。

_____。

6. 党的二十大报告强调促进中医药传承创新发展,请为中医药的传承与发展设计一句宣传词。

_____。