

# 2022-2023 学年第一学期怀柔区小学五年级数学评价试卷答题卡

学校\_\_\_\_\_ 班级\_\_\_\_\_ 姓名\_\_\_\_\_

考生须知:

1. 答题卡共 4 页, 答题前请考生务必在每张答题卡的规定位置认真填写学校、班级、姓名。
2. 请按题号在规定答题区域内作答。
4. 修改时, 不得使用涂改液、涂改带。
5. 请保持卡面清洁, 不要折叠。

一、 选择	1. (    )      2. (    )      3. (    )      4. (    )      5. (    ) 6. (    )      7. (    )      8. (    )      9. (    )      10. (    )
二、 填空	11. (1) (    ) (2) (    ) (3) (    ) (4) (    ) (5) (    ) 12. (1) (    ) (2) (    ) (3) (    ) (4) (    ) 13. $= (11.7 \times 10) \div (0.9 \times \square)$ $= \square \div \square$ $= \square$ 14. (    ) 或 (    ) 15. (    ), (    ) 16. (1) $\frac{12}{18} = \frac{2}{(    )} = 2 \div (    )$ (2) $5 \div 4 = \frac{10}{(    )} = \frac{(    )}{20}$ 17. (1) (    ), (    ), (    )      (2) (    ), (    ) 18. (1) (    )      (2) (    ) 19. (    ), (    ) 20. (    ), (    )
三、 计算	21. 计算并验算, 写出计算过程。 (1) $1.25 \times 0.72 =$ (2) $15.9 \div 15 =$

学校\_\_\_\_\_ 班级\_\_\_\_\_ 姓名\_\_\_\_\_

三、  
计算


22. 计算，写出计算过程。

(1)  $0.65 \times 6.4 - 0.65 \times 5.4$

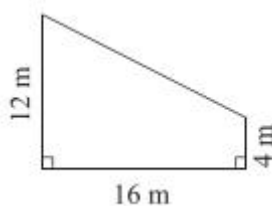
(2)  $5.01 - 1.9 + 4.99$

23. 计算下面图形的面积，写出计算过程。

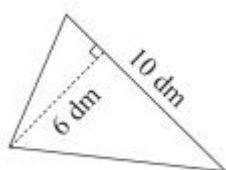
(1)



(2)



(3)



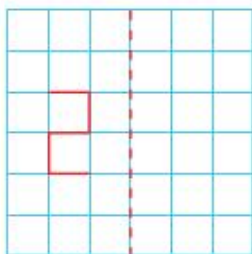
四、  
解答下面各题

24. 2Kg 青菜 2.5 元，3Kg 水果 13.5 元，在下图中标出 1Kg 青菜和 1Kg 水果价钱的大致位置。

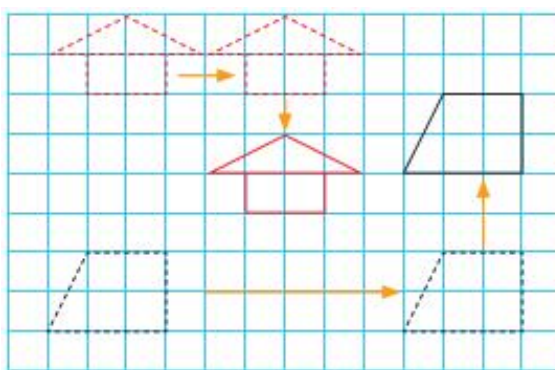


学校\_\_\_\_\_ 班级\_\_\_\_\_ 姓名\_\_\_\_\_

25. 以虚线为对称轴，画出下面图形的轴对称图形。



26. (1) 小房子先向 ( ) 平移了 ( ) 格，再向 ( ) 平移了 ( ) 格。  
 (2) 梯形先向 ( ) 平移了 ( ) 格，再向 ( ) 平移了 ( ) 格。



四、  
解答下面各题

27.

28.

班级	五(1)班	五(2)班	五(3)班
获奖作品数	5	8	4
参赛作品数	15	16	10
获奖作品数占参赛作品数的几分之几			

学校\_\_\_\_\_ 班级\_\_\_\_\_ 姓名\_\_\_\_\_

29. 一共有多少只小动物?



30. 用 100 元买奖品。



(1) 小猫想用余下的钱买文具盒, 能买多少个?

(2) 小狗最多能买多少只铅笔?

四、解答下面各题