

# 初三历史





2024. 01

考生须知	1. 本试卷共 8 页,共两部分,24 道小题。满分 70 分。考试时间 70 分钟。 2. 在试卷和答题卡上准确填写学校名称、班级、姓名和准考证号。 3. 试题答案一律填涂或书写在答题卡上,在试卷上作答无效。 4. 在答题卡上,选择题用 2B 铅笔作答,其他题用黑色字迹签字笔作答。
------	---

## 第一部分 选择题(共 30 分)

本部分共 20 题,每题 1.5 分,共 30 分。在每小题列出的四个选项中,选出最符合题目要求的一项。

1. 下列关于北京人的考古发现和分析结论对应正确的是

考古发现				
分析结论	北京人大脑容量与现代人一致	北京人已经使用石器进行农业生产	北京人已经学会长时间保存火种	北京人开始饲养家禽和家畜
	A	B	C	D

2. 春秋战国时期各种学说蓬勃兴起。下列搭配正确的是


- A. 老子——“仁政”“礼治”
- B. 孔子——“仁” 以德治国
- C. 孟子——以法治国
- D. 韩非子——“兼爱”“非攻”

3. 右侧图示“?”处应该补充的内容是

- A. 地方控制的加强
- B. 思想控制的增强
- C. 选官制度的完善
- D. 中外交流的扩大



4. 某校社团为体验我国古代一项伟大发明的工艺流程,进行了以下实践活动。这项发明



- A. 推动了文化传播和发展
- B. 促进了远洋航海技术的进步
- C. 导致了社会转型的发生
- D. 总结了我国古代药物学成就

5. 专题故事会上,同学们纷纷讲述了林则徐虎门销烟、邓世昌黄海激战、义和团抗击八国联军等故事。这次故事会的主题可能是

- A. 中国人民反侵略斗争
- B. 西方列强的侵略扩张
- C. 有识之士开眼看世界
- D. 革命党人的武装起义

6. 以下是洋务派兴办的部分企业,可用于说明

创办时间	1861年	1865年	1866年	1872年	1888年
洋务企业	安庆内军械所	江南机器制造总局	福州船政局	轮船招商局	湖北织布局

- A. 洋务企业受到外国势力的挤压
- B. 洋务运动从“自强”扩展到“求富”
- C. 清政府建立了完整的工业体系
- D. 洋务运动使清政府摆脱内忧外患

7. 下图是维新运动期间维新人士创办的部分报刊。这些报刊

- ①推动了维新变法思想的广泛传播
- ②在思想文化方面产生了广泛而持久的影响
- ③推动了中国近代化的发展
- ④号召人们团结起来推翻清朝的统治



- A. ①②③
- B. ②③④
- C. ①③④
- D. ①②④

8. “打破了历代王朝的更迭机制,否定了整个皇权体制,因而也触动了传统社会的各条神经,是政治制度和社会思想的一大跃进,在新旧递嬗的历史进程里留下了自己不可磨灭的影响。”这段材料评价的是

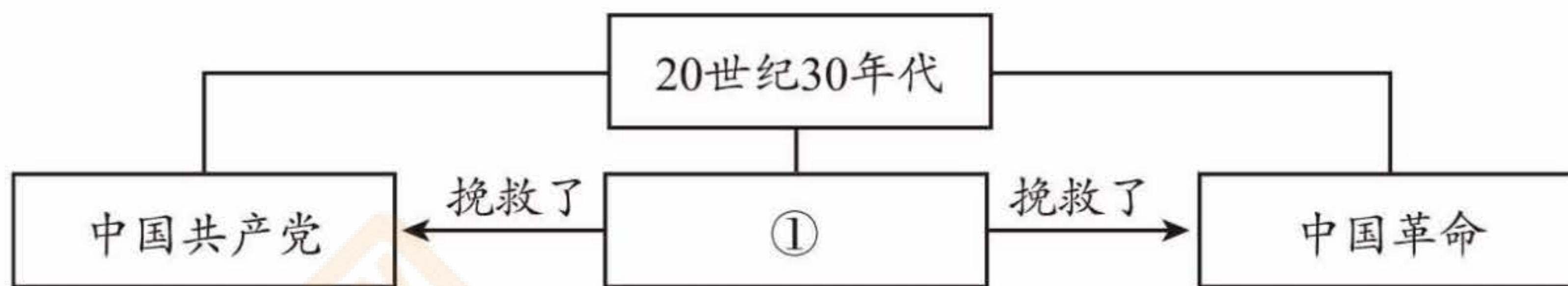
- A. 洋务运动
- B. 戊戌变法
- C. 辛亥革命
- D. 新文化运动

9. 下面示意图中的历史事件反映的主题是



- A. 北洋政府的统治与军阀割据
- B. 国共合作与北伐战争
- C. 毛泽东开辟井冈山道路
- D. 中国工农红军长征

10. 下面示意图是某同学做的课堂笔记,①处应为



- A. 中共一大      B. 中共二大      C. 遵义会议      D. 中共七大

11. 以下三幅图片反映的史实,产生的影响是



- A. 揭开了人民解放军战略进攻的序幕  
 B. 大大加速了人民解放战争在全国的胜利  
 C. 宣告了国民党反动统治的覆灭  
 D. 为人民解放战争的胜利提供了重要的人力、物力保障

12. 下面是 1909 年《京华百二竹枝词》节选。据此可以了解

或坐洋车或步行,不施脂粉最文明。衣裳朴素容幽静,程度绝高女学生  
 一平马路真如砥,信步行来趣更奢。眼底耳根两清净,从今不见破骡车

- A. 社会普遍接受平等观念      B. 发展实业的热潮兴起  
 C. 民族工业出现“短暂的春天”      D. 近代社会生活的变化

13. 右图是某册教材第五单元内容,该单元标题是

- A. 封建时代的欧洲  
 B. 走向近代  
 C. 资本主义制度的初步确立  
 D. 资本主义制度的扩展

第五单元 _____	
第13课	西欧经济和社会的发展
第14课	文艺复兴运动
第15课	探寻新航路
第16课	早期殖民掠夺

14. 下表反映出西欧租地农场和手工工场的共同点是

租地农场	手工工场
农场主提供土地和生产工具;农场主雇佣农民;农产品面向市场	工场主提供原料和生产工具;工场主雇佣工人;手工业品面向市场

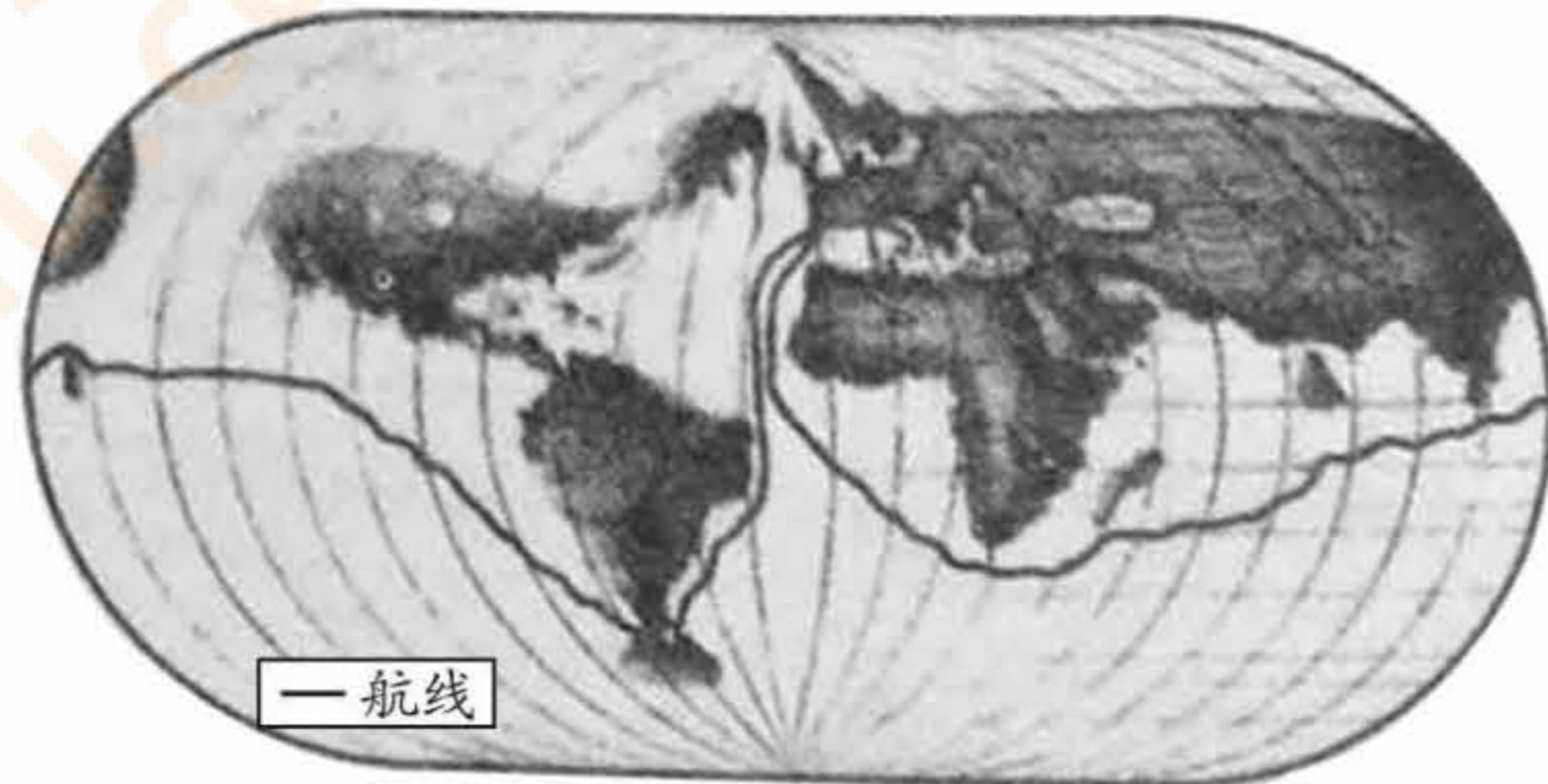
- A. 劳动者掌握着生产资料      B. 存在人身依附关系  
 C. 产品只是满足自我消费      D. 出现资本主义萌芽

15. 下面是一部历史人物传记的目录(节选)。据此推断该传记的题目是

- A. 《但丁传》
- B. 《薄伽丘传》
- C. 《达·芬奇传》
- D. 《拉斐尔传》

目录(节选)	
.....	
第十四章	与《神曲》有关的一些事情
第十五章	为什么《神曲》是以俗语写成的
.....	

16. 下面是绘制于 1543 年的地球平面球形图。图中的航线是



- A. 达·伽马到达印度
- B. 哥伦布首次到达美洲
- C. 麦哲伦船队环球航行
- D. “三角贸易”路线

17. 下列文献可以用来研究

《大宪章》 《权利请愿书》 《权利法案》 《王位继承法》



- A. 文艺复兴进程
- B. 英国走向民主
- C. 启蒙思想影响
- D. 美国逐步独立

18. 下表是部分学者对法国大革命的评价。据此可知法国大革命

作者	论著	评价
(法)托克维尔	《旧制度与大革命》	打碎了欧洲的一顶顶王冠
王振国	《法国大革命对中国辛亥革命的影响》	对中国辛亥革命有积极的推动作用

- A. 建立了君主立宪政体
- B. 实现了民族的解放
- C. 推动了启蒙运动兴起
- D. 具有世界性影响力

19. 进入 19 世纪,一种新型的工业组织形式出现了。它创造了一种新的工作场所,工人们必须守纪律、有节奏的劳动,按固定时间上、下班。材料说明的是

- A. “珍妮机”的发明
- B. 蒸汽机广泛应用
- C. 交通运输业的发展
- D. 工厂制度的出现

20. 出版于 19 世纪中期,提出“资本主义社会必将被没有阶级剥削和压迫的共产主义社会所取代”的著作是

- A. 《人权宣言》
- B. 《独立宣言》
- C. 《资本论》
- D. 《共产党宣言》

## 第二部分 材料分析题(共40分)

### 21. (11分)人口·发展

#### 材料一

- ① 西晋时,山西、陕西内迁的各族人口,已经占当地总人口的一半。
- ② 两宋时期,越南占城稻的推广,最高人口突破一亿人。
- ③ 明朝鼎盛时期,全国人口达到一亿多,清朝康乾盛世时期,人口占当时世界总人口的三分之一。
- ④ 明朝引进的玉米、甘薯等作物,在清朝时扩大种植。乾隆末年,全国人口发展到3亿。

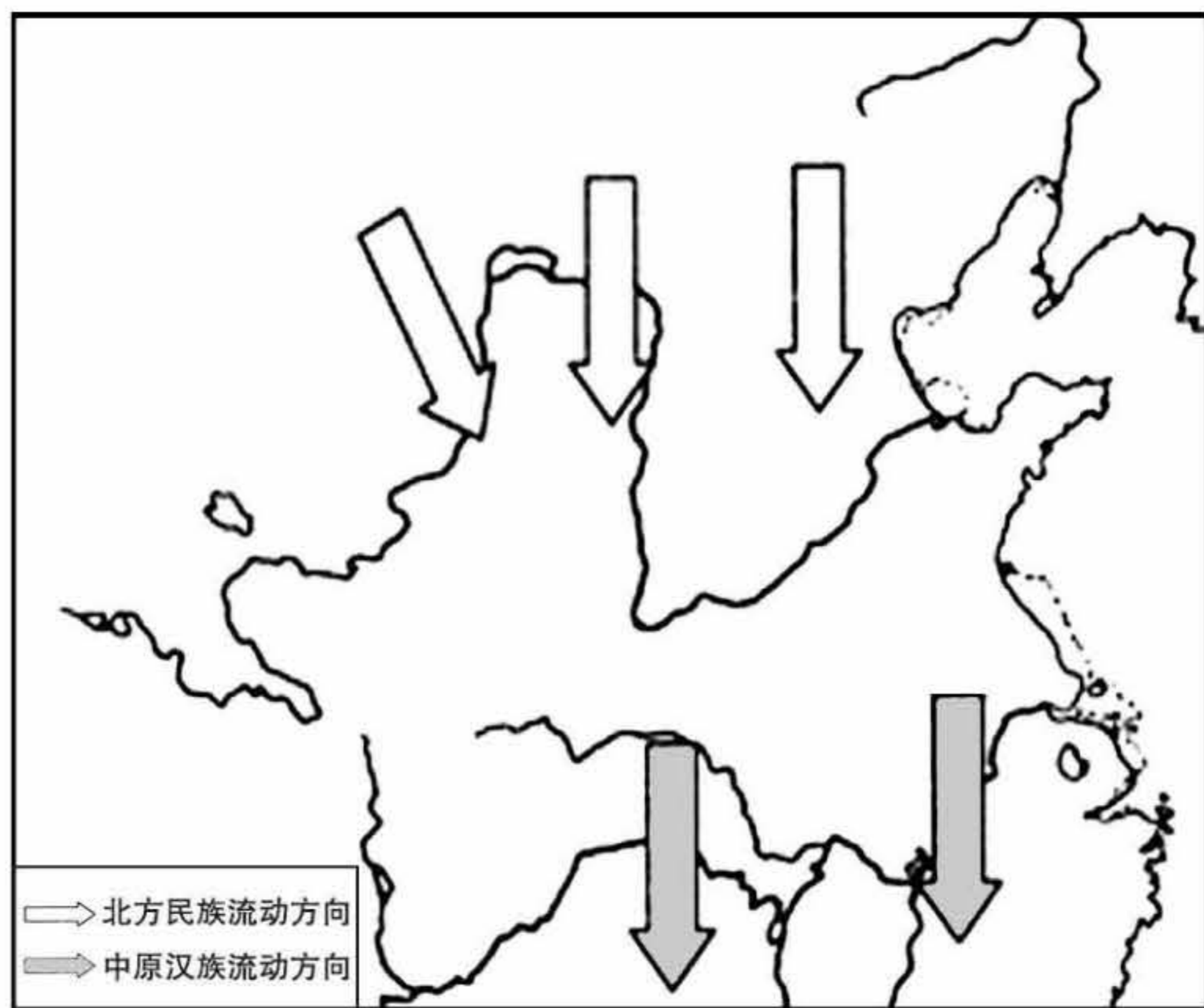
(1)用材料一的史实说明以下观点。(3分。填序号,多选、少选、错选均不得分)

人口变化与农业生产息息相关:\_\_\_\_\_

盛世局面出现的标志之一是人口增长:\_\_\_\_\_

少数民族内迁是人口流动的形式之一:\_\_\_\_\_

#### 材料二 三国两晋南北朝时期民族流动示意图



(2)依据材料二,写出这一时期人口迁移方向。(2分)结合所学,分析产生的影响。(3分)

**材料三** 清政府于雍正至乾隆初年举行了较为详细的户口清查,显示西藏境内共222,190户,以每户4.5人计算,当时共有百姓99.98万,再加上僧侣34.12万,共计134万余。由于清朝已经开始在西藏征收赋税,并经常推行“查实绝户荒田,随时豁赋”的政策。因此,清代户口清查的准确性基本上是可以置信的。

——摘编自王克《藏族人口史考略》

(3)依据材料三并结合所学,说出清朝在西藏清查户口所体现的时代特征。(1分)列举这一时期体现该时代特征的其他史实。(2分)

22. (10分)各民族交融汇聚成多元一体的中华民族。

材料一 秦汉以后的中国,传统的国家认同不仅表现为对某一君主的认同,对某个具体朝代的认同,还开始表现为对超越朝代的具有历史文化延续性的通称——“中国”或“中华”之认同。自称“中国”“中华”,或被后一朝代认同为“中国”“中华”者,不仅是那些汉人主导的政权,也包括众多少数民族建立的政权。

——摘自黄兴涛《重塑中华 近代中国“中华民族”观念研究》

(1)依据材料一并结合所学,写出一个对“中国”“中华”认同的少数民族政权,(1分)并运用史实进行说明。(2分)

### 材料二

类别	开始时间	载体	事例
理论宣传	1931年	报刊	《红色中华》《斗争》等
大众宣传	1933年	木刻版画	《义勇军》《巩固团结,抗战到底》等
	1935年	宣言书	《为抗日救国告全体同胞书》
	1938年	电影	《保卫我们的土地》《八百壮士》等
	1942年	秧歌剧	《军民大生产》等
教育宣传	1938年	冬学运动	冬季农闲时,将分散的农民召集起来开展统一的识字、读书、学习活动

——整理自李彤《抗战时期中国共产党对中华民族观念的宣传研究》

(2)依据材料二,概括中国共产党对中华民族观念宣传的特点。(2分)结合所学,说出中国共产党在抗战时期宣传中华民族观念的作用。(2分)

材料三 中华大地上众多部落和民族,经过长期的交往、交流和交融,逐步形成了多元一体的中华民族共同体。中华民族共同体意识是中国各族人民对中华民族共同体的认同意识和归属意识。甲午战后,西方列强对中国的侵略日渐加深,中国人的中华民族意识开始觉醒;五四时期,随着反帝爱国运动的兴起,各族人民的中华民族共同体意识开始初步形成;抗战时期,中国各民族普遍增强了国家意识和中华民族认同意识,在共同抗战中形成了中华民族共同体意识。




——摘编自孔亭《中华民族共同体意识的历史形成及其思想基础》

(3)依据材料三并结合所学,谈谈对中华民族共同体意识形成的认识。(3分)

23. (9分) 图像史料见证历史。

材料一 图像史料包括绘画、雕刻、照片、古地图。选择有代表性的图像史料进行研读,认识图像史料的价值,不仅需要历史学的方法,也需要借助艺术史等不同学科的方法。

——摘自《普通高中历史课程标准(2017版)》

		
①《蒙娜丽莎》	②郑和远航绘制的航海图(局部)	③《中华民国临时约法》部分

(1) 依据材料一,属于图像史料的是\_\_\_\_\_。(2分。填序号,多选、少选、错选均不得分) 任选一幅图像史料说明其价值。(2分)

材料二

		
①哥伦布登上美洲大陆	②威廉和玛丽加冕	③18世纪的一幅描绘黑奴加工烟草的版画
		
④攻占巴士底狱	⑤19世纪早期使用蒸汽机的英国煤矿	⑥机器时代的“享受”

(2) 从下表观点2和观点3中任选其一,选用材料二中两则图像史料,参照示例进行简要说明。(5分。要求:不得选用示例中的观点和材料)

观点1	观点2	观点3
世界逐步联系成为一个整体	资产阶级革命推动资本主义制度初步确立	科技是把双刃剑

示例:

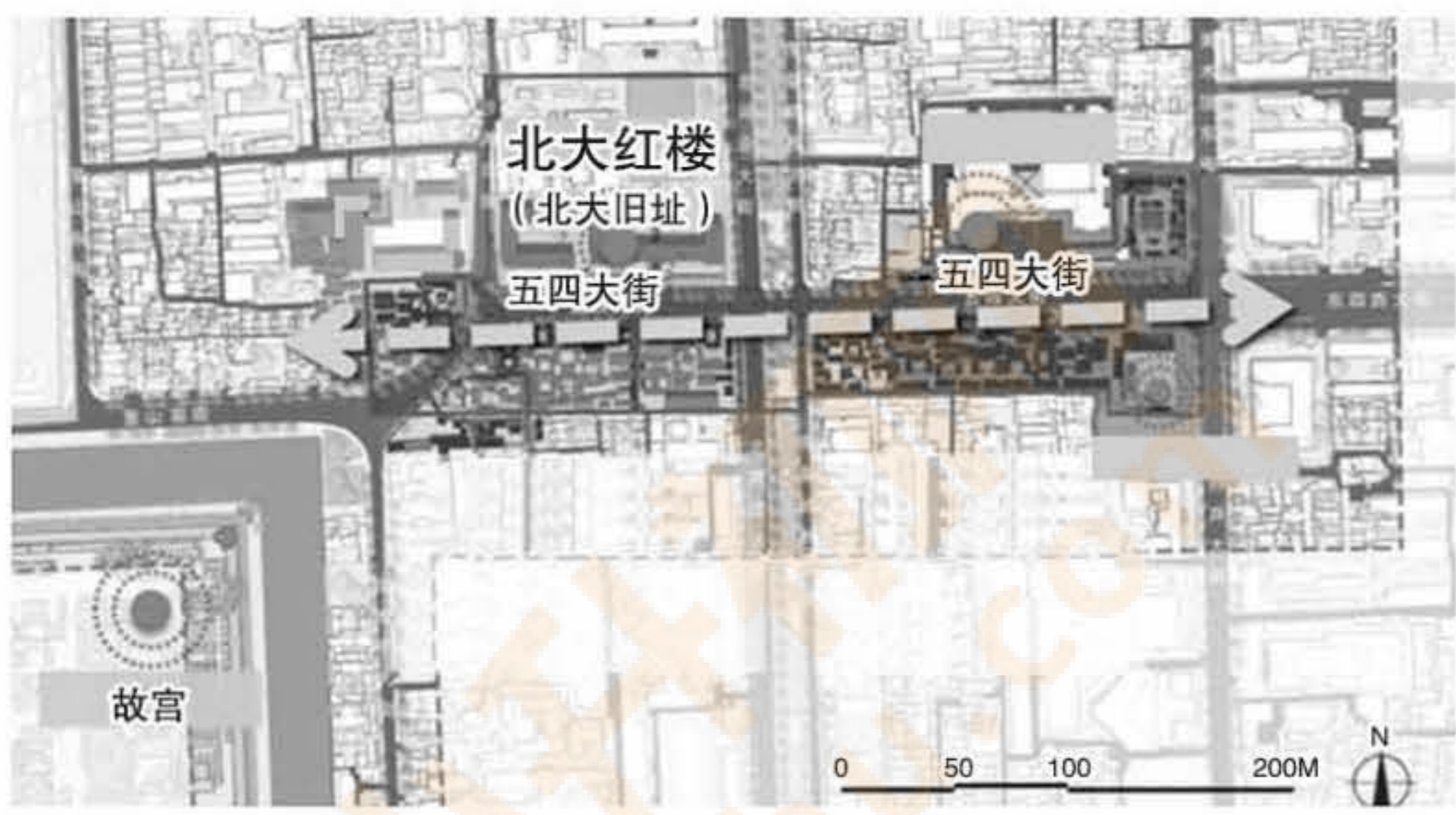
观点1:世界逐步联系成为一个整体。

图片:①③

说明:哥伦布发现美洲大陆,建立起欧洲与美洲之间直接的商业联系。黑奴和加工的烟草作为商品,在三角贸易往来中,促进了世界市场的逐步形成,进一步推动世界联系的加强。可见,世界逐步联系成为一个整体。

24. (10分) 某历史社团开展“探寻红楼遗址群”主题实践活动。

### 活动一 搜集历史资料



五四大街是东西横贯北京城区的大街最中间的一段,却几乎是北京最短的一条大街。乾隆时东段称双碾儿胡同,光绪时东段称双碾胡同,西段称东、西沙滩。宣统时东段称双辇胡同,中段称汉花园,西段称沙滩。民国后沿称。二十世纪六十年代末期,将其命名为“五四大街”。

(1) 依据材料,概括五四大街的特点。(2分) 结合所学,推断“五四大街”命名的由来。(1分)

### 活动二 考查历史遗址

			
《新青年》编辑部旧址(陈独秀旧居)。1917年陈独秀出任北大文科学长,在该地将《新青年》编辑部和自己的住宅合二为一	蔡元培校长的办公桌复原场景。1917年至1927年,蔡元培任北京大学校长,革新北大,开“学术”与“自由”之风	北大红楼图书馆主任室,1920年10月,中国共产党早期组织“共产党小组”在此成立,同年11月改名为“共产党北京支部”	亢慕义斋是1921年底成立的北京大学马克思学说研究会的讨论室、编辑翻译室和最早收藏马克思主义著作的图书室

(2) 依据材料,概括“红楼遗址群”的历史贡献。(4分)

### 活动三 思考历史传承

五四大街北大红楼段整体环境提升工作,仿照史料重塑北大红楼沿街围墙,建设红色文化主题体验区。恢复北大红楼南门正对面“梅园”的历史风貌,作为北大红楼的配套设施和文创产品店向公众开放。位于红楼西侧的求是杂志社空置建筑改造为集书吧、新媒体展示等功能于一体的“五四青年书屋”,形成新的“网红打卡点”。

——摘编自《五四大街北京大学红楼周边整体环境提升系列工作》

(3) 依据材料,分析“五四大街北大红楼段整体环境提升工作”的设计意图。(2分) 结合自身学习生活,为发挥“红楼遗址群”的功能提出合理建议。(1分)



大兴区 2023~2024 学年度第一学期期末检测

初三历史参考答案及评分标准

第一部分 选择题 (共 30 分)

1	2	3	4	5	6	7	8	9	10
C	B	A	A	A	B	A	C	C	C
11	12	13	14	15	16	17	18	19	20
B	D	B	D	A	C	B	D	D	D

第二部分 材料分析题 (共 40 分)

21. (11 分)

(1) (3 分)

②④; ③; ①

(2) (5 分)

方向: 北方民族迁往中原, 中原汉族迁往江南。(2 分, 一点 1 分)

影响: 为南方带来大量劳动力及技术, 促进了江南地区得到开发, 为经济重心南移奠定基础, 促进了北方少数民族与汉族, 以及南方汉族士大夫阶层之间的交融。(3 分, 任意三点)

(3) (3 分)

时代特征: 统一多民族国家的巩固与发展;(1 分)

史实: 设置驻藏大臣; 收复台湾, 在台湾设台湾府等。(2 分)

22. (10 分)

(1) (3 分)

政权: 北魏、元、清等 (1 分)

说明示例: 北魏, 孝文帝通过改革, 向汉族学习, 推行汉化措施, 促进了民族交融。(2 分)

(2) (4 分)

特点: 宣传类别丰富, 载体多样, 时间持续长, 重视大众宣传。(2 分, 任意两点)

作用: 有利于唤醒民族意识, 团结全民族抗战, 争取抗战胜利。(2 分, 任意两点)

(3) (3 分)

认识: 中华民族共同体意识植根于中国悠久的历史文化之中; 中华民族共同体意识的形成是有阶段性的; 中华民族共同体意识受到外来侵略等因素的影响等。(3 分, 任意三点)

23. (9分)

(1) (4分)

图像史料：①② (2分，一点1分)

价值：①呈现了达·芬奇的绘画技艺，体现出意大利文艺复兴时期人文主义思想，为后世研究意大利的绘画及文艺复兴提供了史料；

②记录了郑和远航途中地理情况，是当时中国航海情况的反映，为后世了解郑和的航海壮举提供了史料。(2分，任意两点)

(2) (5分)

观点二：资产阶级革命推动资本主义制度初步确立。

图片：②④

说明：1688年，英国发生光荣革命，威廉和玛丽入主英国，1689年议会通过《权利法案》，英国君主立宪制逐渐形成。1789年7月14日，巴黎民众攻占巴士底狱，法国大革命由此开始。可见，资产阶级革命推动资本主义制度初步确立。

观点三：科技是把双刃剑。

图片：⑤⑥

说明：蒸汽机的发明使用，极大地提高了社会生产力，使工业革命得以更快地向纵深发展。但工业革命的推进也带来了环境污染，危害了人们的身体健康。可见，科技是把双刃剑。

(5分，序号正确1分，每个史实及解释正确2分)

24. (10分)

(1) (3分)

特点：历史悠久，距离短，位置重要等。(2分，任意两点)

由来：纪念五四运动，五四运动是中国旧民主主义革命走向新民主主义革命的转折点，在近代以来中华民族追求民族独立和发展进步的历史进程中具有里程碑意义。(1分)

(2) (4分)

历史贡献：促进了近代思想的解放，近代教育发展，共产党早期组织的形成，马克思主义理论研究等。(4分，任意四点)

(3) (3分)

设计意图：保护历史遗址，传播红色革命文化，提升整体环境等。(2分，任意两点)

建议：合理即可。(1分)