

丰台区 2018~2019 学年度第二学期二年级数学期末试卷 (共 2 页 第 1 页)

学校 _____ 班级 _____ 姓名 _____ 成绩 _____

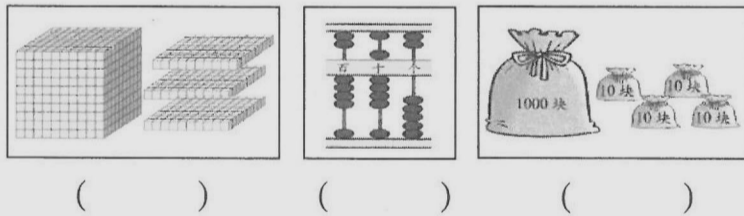
一、看谁算得对。

$16+25=$ $36-17=$ $45+35=$ $63-36=$
 $74-28=$ $28+35=$ $100-52=$ $42+29=$
 $2 \times 9 \div 6=$ $3 \times 2 \times 8=$ $24 \div 3 \times 9=$
 $350-60=$ $800-560=$ $2500-700=$


二、填空。

- (1) 120 分 = () 时 3000 克 = () 千克
 (2) 由 4 个千和 7 个十组成的数是 ()。
 (3) 8006 里面有 8 个 ()、6 个 ()。
 (4) 28 个十是 ()。
 (5) 3500 里有 () 个百。
 (6) $5 \square 4 < 543$ $7 \square 6 > 781$
 $65 \square > 656$ $945 < 9 \square 0$
 (7) 深呼吸一次, 大约用 3 ()。
 脉搏跳动 80 下, 大约用 1 ()。

三、看图写数。



四、小蜗牛搬家用了多长时间?




五、下面图形中是轴对称图形的, 在括号里画“√”。不是的画“×”。



六、想一想, 填一填。

- (1) () 比连环画多一些, () 比连环画多得多。

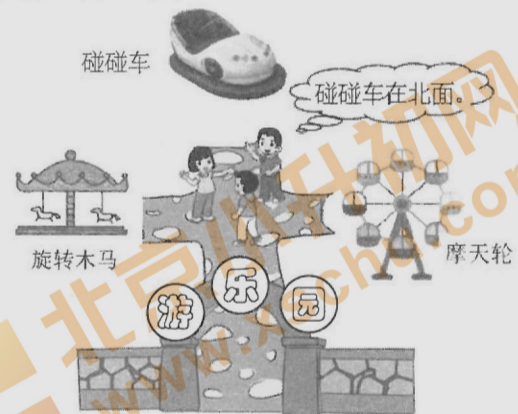
- (2) 欢欢、乐乐、笑笑和美美四人中, 乐乐不是最高的, 但比欢欢、笑笑高, 而笑笑比欢欢高, 请在下图中写出他们的名字。



七、填上合适的质量单位。



八、看图, 填一填。



- (1) 大门在游乐园的 () 面。想玩碰碰车, 他们向 () 面走。
 (2) 旋转木马在三个小朋友的 () 面, 摩天轮在三个小朋友的 () 面, 旋转木马在摩天轮的 () 面。

九、圈一圈, 算一算。

- (1) 下面几个图形是一组, 圈一圈。
 ☆ ★ □ ☆ ★ □ ☆ ★ □ ☆ ……
 (2) 舞蹈队共有 24 名队员手拉手站成一排, 按照“一、二、三”报数, 最后一名队员报几?

十、计算下面各题。

(1) $170+356+434=$ (2) $1000-658=$

十一、收集数据。

(1) 学校要为各班添新书, 如果想知道你们班的同学最喜欢哪类图书, 选择下面哪种方式收集数据更合理, 在相应的□内画“√”。

到书店问问哪类书卖得最好。




问问班里的某一位同学。



请每个同学写出自己最喜欢的一类图书。



(2) 下面是同学们剪的窗花作品, 请你用画正字的方法分类整理。



☼

☼

☼

十二、解决下面的问题。

(1) 有 30 盆花, 能摆几个这样的花坛, 还剩几盆?



(2) 《村居》是一首七言绝句, 描写了春天迷人的景色, 儿童在春天放风筝的情景。这首诗 (包括诗的题目) 一共有多少个字?

村 居

草长莺飞二月天,
拂堤杨柳醉春烟。
儿童放学归来早,
忙趁东风放纸鸢。

(3) 一辆自行车多少元?

比童车贵 90 元。

儿童自行车

童车 120 元

比儿童自行车还贵 130 元。

自行车

(4) 同学们去划船。

男生 12 人,
女生 16 人。

需要几条船?

(5) 3 天后, 欢欢看了多少页?

我每天看 6 页。

乐乐

欢欢

我每天比你多看 2 页。