

# 三年级数学期末闯关——解决问题


班级\_\_\_\_\_ 姓名\_\_\_\_\_

## 一、选择题

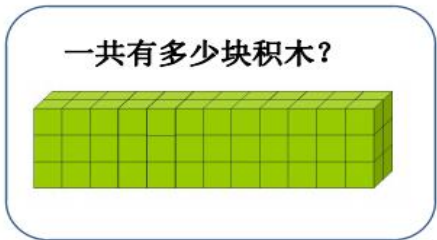
1. 下图中**不能**用算式  $12 \times (3 \times 2)$  解决的问题是 ( )。



A



B

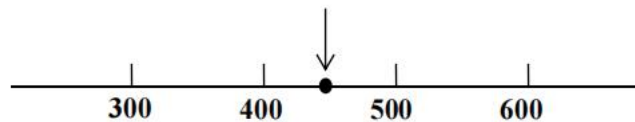


C



D

2. 下图中，“↓”所指的数可能是算式 ( ) 的积。



A.  $78 \times 5$

B.  $81 \times 5$

C.  $89 \times 5$

D.  $101 \times 5$

3. 妈妈到水果店买了一袋苹果，下图是她付给售货员的人民币。用小数表示是 ( )。



A. 10.60 元

B. 10.51 元

C. 10.06 元

D. 1.60 元

## 二、填空题

4. 为了减轻交通拥堵，北京市提出“公交优先，绿色出行”。北京三环路主路公交专用道使用时间为早高峰 7:00—9:00 和晚高峰 17:00—19:00。这条公交专用道每天公交专用时间一共 ( ) 时。

5. “柠檬百香冰茶”的含冰量有 3 种情况，含糖量有 4 种情况，如右图。每次顾客要从含冰量和含糖量中各选一种情况进行搭配，一共有（      ）种不同的搭配方法。



（如果有困难，你可以借助上面的图进行思考。）

### 三、解决问题

6. 小兔子一共采了多少个蘑菇？



7. 食堂要为幼儿园的小朋友们烤 90 个面包，已经烤好了 36 个。

剩下的还要烤几次？



8. 李老师喜欢运动，一直坚持长跑。最近她想在网上商城购买 2 双运动鞋和 1 个运动腰包。如果她用手机电子钱包里的 700 元零钱支付，够吗？写出你的思考过程。



每双 289 元



每个 78 元