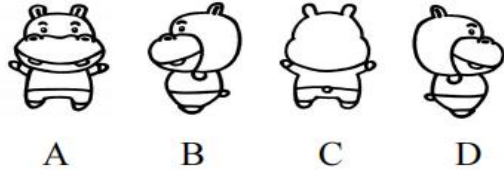


三年级数学期末闯关——几何与统计

班级_____ 姓名_____

一、选择题

1. 下面四幅图中，淘气看到的是图（ ）。

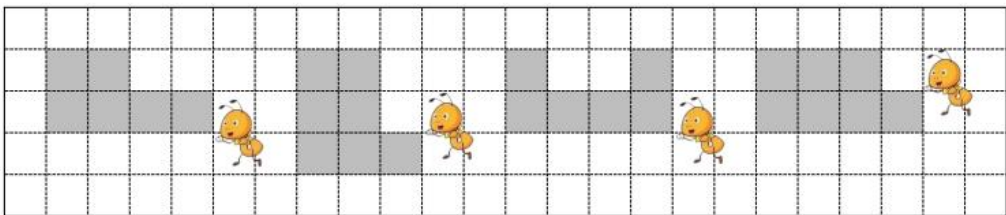


2. 学校合唱团原有队员 128 名。新学期有 54 名新队员加入，有 39 名队员毕业，此时合唱团有多少名队员？下面四位同学用算式表示了自己的想法，其中正确的（ ）。

<p>妙想</p> <div style="border: 1px solid blue; border-radius: 10px; padding: 5px; width: fit-content; margin: 0 auto;">$128+54-39$</div>	<p>笑笑</p> <div style="border: 1px solid blue; border-radius: 10px; padding: 5px; width: fit-content; margin: 0 auto;">$128-39+54$</div>
<p>奇思</p> <div style="border: 1px solid blue; border-radius: 10px; padding: 5px; width: fit-content; margin: 0 auto;">$128+(54-39)$</div>	<p>淘气</p> <div style="border: 1px solid blue; border-radius: 10px; padding: 5px; width: fit-content; margin: 0 auto;">$128-(54-39)$</div>

- A. 只有妙想和笑笑 B. 只有笑笑和奇思
 C. 只有妙想和淘气 D. 只有妙想、笑笑和奇思

3. 四只小蚂蚁分别绕着下面的图形走一周，它们走的路线**最长**的是（ ）。(每个小方格大小相同)



A B C D

二、填空题

4. 在 ○ 里填上 “>” “<” 或 “=”。

11.1 元 ○ 9.99 元

16×3 ○ 13×6

$48 \div 4$ ○ $24 \div 2$

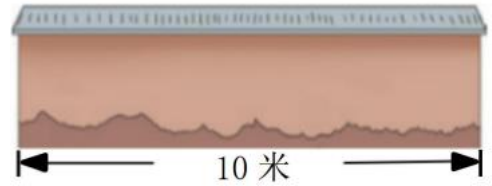
25.6 元 ○ 26.5 元

205×4 ○ 1000

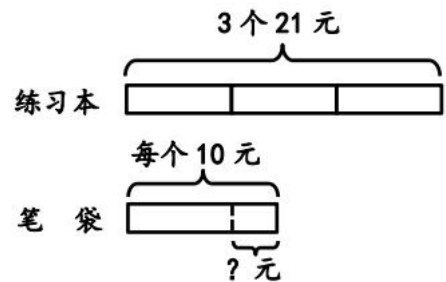
$372 + 0$ ○ 372×0

三、解决问题

5. 有一面长 10 米的墙，王奶奶想靠墙用篱笆围一个长 7 米、宽 4 米的长方形菜园。她想**最省**篱笆，需要篱笆多少米？



6. 一个笔袋比一个练习本贵多少元？

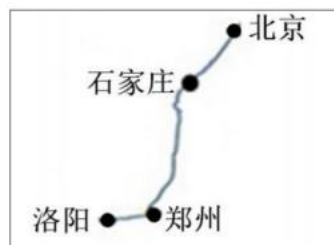


7. 上午 9:00 亮亮一家坐火车从北京出发去洛阳。北京到洛阳的里程表和路线图如下。

里程表

	里程/千米
北京—石家庄	277
北京—郑州	689
北京—洛阳	813

路线图



- (1) 石家庄到郑州有多少千米？

- (2) $813 - 689$ 求的是 () 与 () 之间的里程。